

# Logisch redeneren

Deel 1

vwo wiskunde C, domein F: Logisch redeneren



Verantwoording



© 2015, SLO (nationaal expertisecentrum leerplanontwikkeling), Enschede

Dit lesmateriaal is ontwikkeld in het kader van de nieuwe examenprogramma's zoals voorgesteld door de commissie Toekomst Wiskunde Onderwijs (cTWO) en herzien door SLO.

Dit materiaal is ook te vinden op de site van cTWO: [www.ctwo.nl](http://www.ctwo.nl).

Mits de bron wordt vermeld, is het toegestaan zonder voorafgaande toestemming van de uitgever deze uitgave geheel of gedeeltelijk te kopiëren en/of verspreiden en om afgeleid materiaal te maken dat op deze uitgave is gebaseerd.

Auteurs: Anton Roodhardt en Michiel Doorman

Met bijdragen van: Theo Janssen, Hugo Bronkhorst, Jos Geerlings, Johan Haasakker, Sjoerd Andringa, R.M. Vodegel en Ivo Claus.

Aangepast aan het nieuwe examenprogramma Wiskunde C door Hielke Peereboom, Peter Vaandrager en Piet Versnel in opdracht van SLO.


Eindredactie: Nico Alink

**Informatie:** SLO  
Afdeling: tweede fase  
Postbus 2041, 7500 CA Enschede  
Telefoon (053) 4840 661  
Internet: [www.slo.nl](http://www.slo.nl)  
E-mail: [tweedefase@slo.nl](mailto:tweedefase@slo.nl)



## Onderwerpen

- Puzzels
- Kenmerken van redeneringen
- De taal van de logica: niet, en, of, als-dan
- Contradictie en paradox
- Venndiagrammen



## Inhoud

Onderwerpen .....	3
§ 0 Logische puzzels.....	5
§ 1 Nogal logisch .....	9
§ 2 Opbouw van een redenering: OF en EN.....	14
§ 3 Implicatie.....	20
§ 4 Kenmerken van redeneringen .....	27
§ 5 Verdieping en gemengde opdrachten .....	36
§ 6 Contradictie en paradox.....	41
§ 7 Venndiagrammen .....	48



## § 0 Logische puzzels

Wiskundigen vertellen graag dat je van wiskunde leert redeneren. Niet iedereen zal het hiermee eens zijn. Je herkent misschien wel dat het binnen de wiskunde voorkomt dat een persoon een oplossing logisch vindt, terwijl een ander er niets van begrijpt. Kan die andere persoon dus niet redeneren? Nee. Kennis over de logica in redeneringen is niet het enige wat telt. De volgende puzzels hebben iets te maken met logisch redeneren. Daarna laten we zien dat inzicht in de kunst van het redeneren in allerlei situaties van belang is: niet alleen in de wiskunde, maar ook in rechtszaken, kunst en politiek.

### Opgave 1

Ali, Ben, Cé en Daantje hebben een cadeau voor hun vader gekocht. Een van de vier kinderen heeft het cadeau verstopt. Als hun moeder vraagt wie dat heeft gedaan, antwoorden ze als volgt:

- Ali: "Ik was het niet."
- Ben: "Ik was het niet."
- Cé: "Daantje heeft het gedaan."
- Daantje: "Ben heeft het gedaan."

- a. De uitspraken van Cé en Daantje kunnen niet allebei tegelijk waar zijn. Geef nog zo'n voorbeeld.
- b. Stel: precies een van de kinderen heeft gelogen. Wie heeft dan het cadeau verstopt?

### Opgave 2

John en Leny nemen de getallen 3 en 11 in gedachten en bedenken:

- De som ( $3 + 11$ ) is even.
- Het product ( $3 \times 11$ ) is oneven.

John zegt: "Als de som van twee gehele getallen even is, is hun product oneven."

Leny zegt: "Als het product van twee gehele getallen oneven is, is hun som even."

Hebben John en Leny gelijk?

### Opgave 3

Er zijn twee rode en drie zwarte petjes. Drie kinderen kennen de petjes en zitten in een rij. Ieder kind krijgt een petje op. Ze kunnen alleen de petjes zien van degenen die voor ze zitten.


Aan het achterste kind wordt gevraagd: "Weet jij welke kleur pet je op hebt?"

Ze kijkt naar de twee petjes voor zich, denkt even na en zegt dan: "Nee."

Vervolgens wordt dit aan de middelste gevraagd. Die ziet maar één petje voor zich, denkt na en antwoordt ook ontkennend.

De voorste is even stil en zegt: "Dan weet ik de kleur van mijn petje!"


Welke kleur is dat?



**Opgave 4**

De strip hieronder van Peter van Straaten gaat over vader en zoon.

Lees de strip en geef commentaar op de redenering van vader.



## Extra opdrachten

### Opgave 5

Ad en Ben zijn verdachten in een moordzaak. Ze leggen onder ede de volgende verklaringen af:

Ad: *“Ben is schuldig en Cor is onschuldig.”*

Ben: *“Als Ad schuldig is, dan is Cor ook schuldig.”*

Cor: *“Ik ben onschuldig, maar minstens een van de anderen is schuldig.”*

- Stel dat alle drie de verdachten onschuldig zijn, wie pleegt/plegen er dan meeneed?
- Stel dat ze alle drie de waarheid spreken, wie is/zijn er dan schuldig?
- Stel dat de onschuldigen de waarheid spreken en de schuldigen liegen, wie is/zijn er dan schuldig?

### Opgave 6

Een klassieker is het verhaal van de prinses en de tijger:

*De koning van Indrahadad heeft een idee. Hij roept zijn Minister van Justitie en zegt: “We hebben te veel gevangenen. Als we ze nu eens laten kiezen tussen twee kamers. In de kamer zit een prinses of een tijger. Kiest hij de prinses, dan mag hij haar trouwen. Kiest hij de tijger, dan wordt hij opgegeten.”*

*De koning vervolgt: “En we laten deze beslissing niet aan het toeval over. We zetten bordjes op de deuren waar de gevangenen iets uit af kunnen leiden. Een slimme gevangene kan zo zijn leven redden.” “Een voortreffelijke gedachte, majesteit”, zegt de minister.*

*In principe zit in de ene kamer een prinses en in de ander een tijger. Maar er kan in elke kamer een tijger zitten en het is ook mogelijk dat in beide kamers prinsessen zitten.*

*“Als er nu in beide kamers tijgers zitten”, zegt de gevangene, “wat moet ik dan doen?”*

*“Tja, dan heb je pech gehad!” zegt de koning.*

*“En als er in elke kamer een prinses zit?”*

*“Dan zit je natuurlijk op fluweel, dat had je zelf ook kunnen bedenken.”*

*“Maar als in de ene een prinses en in de andere een tijger zit? Wat dan?”*

*“Ja, in dat geval moet je proberen de goede te kiezen aan de hand van de bordjes op de deuren.”*

*“Is het waar wat er op de bordjes staat?” vraagt de gevangene.*

*Op deur 1: In deze kamer zit een prinses en in de andere kamer een tijger.*

*Op deur 2: In een van de kamers zit een prinses en in de andere een tijger.*

*Koning: “Een van de twee bordjes is onwaar en de andere is waar.”*

- Welke deur moet de gevangene kiezen?

*Op deur 1: In minstens een van de twee kamers zit een prinses.*

*Op deur 2: In de andere kamer zit een tijger.*

- De gevangene krijgt te horen dat beide bordjes waar of beide onwaar zijn. Welke deur moet hij nu kiezen?

(Meer prinses-en-tijgerpuzzels zijn snel te vinden op internet.)

### Opgave 7

Tijdens het spelen van Sudoku gebruik je ook voortdurend logische redeneringen.

Beschrijf bij deze Sudoku-6-puzzel aan hoe je het getal voor de omcirkelde plek kunt vinden (je hebt de rest van deze Sudoku daar niet bij nodig).

4		○	1	2	
1	2	3	4	5	6
3	4		6		2
6	1	2	3	4	





## § 1 Nogal logisch

*De dokter zegt: "Als je mijn medicijn slikt, dan word je beter."*

*Een week later kom je de dokter tegen bij de supermarkt.*

*De dokter kijkt je aan en concludeert: "Je ziet er goed uit. Je hebt dus mijn medicijn geslikt."*

De conclusie van de dokter is begrijpelijk, maar is die wel volgens de regels van de logica?

Het kan best zijn dat je OOK beter wordt van een paar dagen rust. Zijn eerste uitspraak sluit dat niet uit.

Dus dat je beter bent DANKZIJ zijn medicijn is niet helemaal zeker.

### Opgave 8

In het volgende tekstfragment komt de term *logisch* voor:

*De meeste studenten hebben een bijbaan tijdens hun studie.*

*Nogal logisch als je kijkt naar de hoogte van de studiefinanciering.*

Waarom wordt hier het woord 'logisch' gebruikt? Geef commentaar op de logica.

De volgende opgaven zijn gebaseerd op tekstfragmenten en krantenartikelen.

De vragen gaan over de redeneringen in de teksten. Is er sprake van enige logica?

Het zal blijken dat het niet altijd eenvoudig is om de redenering van de auteur te volgen.

Dit is een oriëntatie op het onderwerp logisch redeneren in de dagelijkse praktijk.

In volgende paragrafen zullen we de regels van de logica scherper stellen.

Dat zal helpen bij het analyseren en beoordelen van redeneringen.

### Opgave 9

TROUW meldt op 12 augustus 2006:

***Na jaren matigen heeft de werknemer nu alle recht loonherstel te eisen***

*Als het bedrijfsleven het moeilijk heeft, moeten de lonen worden verlaagd. En als het economisch weer wat beter gaat, moeten ze vooral niet te snel weer worden verhoogd.*

*Met voorspelbare ondernemerslogica verwijzen de werkgeversorganisaties VNO-NCW en AWWN looneisen van CNV en FNV naar de prullenbak. Volgens de vakcentrales is het tijd dat de werknemers meeprofiteren van de herstellende economie.*

Wat bedoelt de schrijver van deze tekst met 'ondernemerslogica'?

### Opgave 10

In een krant staat de volgende tekst:

#### **Logisch**

*Slechts 11 procent van de Nederlanders reist met de bus of trein. Dat is de helft van het gemiddelde in Europa. Logisch! Voor de prijs van een enkeltje Lelystad-Weesp (€ 6,50) maak je in een gebied van 40 kilometer rondom Rome 24 uur lang gebruik van al het openbaar vervoer (met uitzondering van vliegtuigen en taxi's). En voor die prijs kun je met je gezin de hele dag op een gezinskaart rondtoeren in Dresden. Ik snap het wel.*

- a. Wat zijn de redeneerstappen in dit krantenartikel?
- b. De redenering is strikt genomen niet correct, want onvolledig. Maar de welwillende lezer begrijpt best wat de schrijver bedoelt. Welke redeneerstap ontbreekt eigenlijk?

### Opgave 11

Logica kan ook gebruikt worden voor indoctrinatie. Hieronder twee voorbeelden uit een Russisch leerboek uit de tijd van de Sovjet-Unie.

- *Geen enkel land van het Amerikaanse continent kun je democratisch noemen, want alle landen van het Amerikaanse continent zijn kapitalistische landen en in geen enkel kapitalistisch land is de democratie consequent verwezenlijkt.*
- *Alle landen van de volksdemocratie zijn van het juk van het imperialisme bevrijd. Dit land is een land van de volksdemocratie, dus heeft dit land geen last van imperialisme.*

- a. Onderstreep bij beide voorbeelden de conclusie van de redenering.
- b. Over welke uitgangspunten in de twee voorbeelden kun je twijfelen?

### Opgave12

Bedenk enkele uitdrukkingen die dezelfde betekenis hebben als 'logisch'.



### Opgave13

Het vogelbekdier is een uniek dier. Het heeft de kenmerken van drie andere bekende diersoorten: de snavel van een eend, het lijf van een mol en de staart van een bever.

Toch is het vogelbekdier ook weer heel anders. Ze zogen hun jongen hoewel ze eieren leggen en niet levend baren. Bovendien hebben ze maar één uitgang die gebruikt wordt voor paren, eieren leggen en uitwerpselen. Het vogelbekdier komt van nature alleen voor in Australië.

De ontdekking van het vogelbekdier zorgde voor veel hoofdbrekens bij de biologen die ons dierenrijk indeelden. Geef commentaar op de volgende uitspraken:

1. Zoogdieren zogen hun jongen, dus het vogelbekdier is een zoogdier.
2. Het vogelbekdier is een vogel, want het heeft een snavel.
3. Voor het vogelbekdier moet een nieuwe orde van dieren bedacht worden.

### Samenvatting

Woorden die bij het onderwerp logica een rol spelen zijn:

- *redenering*
- *conclusie*
- *uitgangspunt*
- *definitie*
- *redeneerstap*
- *correct en volledig*

Als een redenering logisch is, dan betekent dat nog NIET dat de conclusie waar is. Je kunt nog steeds van mening verschillen over de uitgangspunten in een redenering.

Vragen waarop we in het vervolg antwoorden proberen te vinden zijn:

- Wat is een redenering en hoe is die opgebouwd?
- Wat is een redeneerstap en wanneer is die correct?
- Wat is een (on)volledige redenering?
- Wat is het verschil tussen een voorbeeld en een tegenvoorbeeld in een redenering?



## Extra opdrachten

### Opgave 14

Uit **HET PAROOL** van 3 augustus 2006:

#### **Geen straf na ongeval met springschans op fietspad Slachtoffer had op de weg moeten letten, niet op Di-rect**

*Het was 'een naar ongeval', daar was de verdachte Alwin M. (29) het met de politierechter over eens. Een springschans op het fietspad zetten was inderdaad onverstandig. De schuldigverklaring was echter onvoldoende reden voor verdere strafvervolging.*

*Het leek de VARA leuk voor het televisieprogramma VARA Live op 12 april vorig jaar iets te doen met een schans en de skateboardende jongens van de popgroep Di-rect, die in de uitzending te gast waren.*

*Buiten op de stoep voor het B&W-café lag echter te veel zand om goed vaart te kunnen maken met de skateboards. Daarom verplaatste M. – die een avond aan het werk was als setdresser – de schans vlak voor de uitzending naar de fietsstrook op de Plantage Kerklaan. Hij verzuimde aan te geven dat het obstakel daar stond.*

*Toen M. even naar binnen ging om te kijken of daar alles goed ging, zag hij vanuit zijn ooghoeken het meisje op de fiets wel aankomen. Op dat moment was ze echter nog een meter of zestig van de schans verwijderd en was de verkeerssituatie ter plaatse overzichtelijk.*

*Uit verklaringen van getuigen en het achttienjarige slachtoffer zelf bleek dat ze niet meer op de weg lette toen ze de bandleden van Di-rect in de gaten kreeg. Ze kwam tot halverwege de schans en verloor toen haar evenwicht. Eenmaal gevallen had ze meteen door wat er mis was: "Mijn tanden, mijn tanden!" Aan de val hield ze vier gebroken tanden – waarvan twee definitief zijn afgestorven – en een blijvend litteken in de vorm van een winkelhaak op haar kin over.*

*Omdat M. na alle tumult een verklaring bij de politie had afgelegd, stond alleen hij gisteren voor de rechter – terwijl de schans niet zijn idee was en hij deze samen met een andere VARA-medewerker had verplaatst.*

*Politierechter J. Hillenius bevond M. aansprakelijk en dus schuldig, maar gezien de omstandigheden moet het daar bij blijven. Dat het slachtoffer zelf volstrekt onvoldoende had opgelet was een belangrijke factor in het afzien van verdere strafvervolging. Ze had evengoed tegen een container of een andere fietser kunnen knallen.*

*De civielrechtelijke zaak tegen de VARA voor een schadevergoeding loopt nog.*

Geen straf voor Alwin M. kan twee reacties oproepen:

1. Dat is niet eerlijk. Hij moet wel straf hebben.
2. Dat is terecht. Je kunt zoiets toch niet verwachten?
  - a. Probeer standpunt 1 te verdedigen met een redenering.
  - b. Doe hetzelfde voor standpunt 2.
  - c. Geef in je antwoorden van a en b aan wat de uitgangspunten en de redeneerstappen zijn en wat de conclusie is.
  - d. Hoe zeker kun je zijn van de redenering? Bekijk nog eens de uitgangspunten en de redeneerstappen. Geef met een getal tussen 0 en 1 aan hoe zeker je van die uitgangspunten en redeneerstappen bent en bepaal daarmee welke uitspraak de rechter vermoedelijk zal doen.

### Opgave 15

Vergelijk de strafmaat in de twee onderstaande krantenartikelen.

#### **Drie jaar cel voor oplichtster kankerfonds**

ASSEN – De rechtbank in Assen heeft een 43-jarige vrouw veroordeeld wegens diefstal van collectegeld van de KWF Kankerbestrijding. De vrouw krijgt drie jaar cel, waarvan een jaar voorwaardelijk met een proeftijd van drie jaar en reclasseringstoezicht. Tussen 2002 en 2006 stak de vrouw ruim 160.000 euro aan collecteopbrengsten in eigen zak. Ze hield thuis collectebussen met inhoud achter. Ook collectegelden die bijvoorbeeld bij uitvaarten waren opgehaald, stak ze in eigen zak. Het geld is volgens de vrouw opgegaan aan „nutteloosheid.”

#### **Penningmeester parochie gestraft voor verduistering**

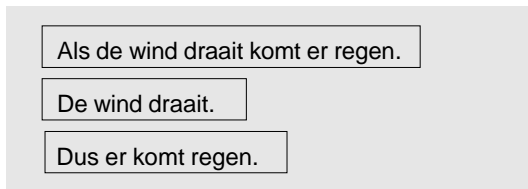
ROERMOND, KESSEL – Een voormalige penningmeester van de OLV Geboorteparochie in Kessel is veroordeeld tot een werkstraf van 240 uur en een gevangenisstraf van 182 dagen, waarvan 180 voorwaardelijk. Hij vergokte tussen 2001 en 2006 356.000 euro van het zwarte spaarboekje van de kerk. Ook verduisterde hij 44.000 euro van een particulier. De parochie verzweeg inkomsten voor het bisdom en ontdukte zo 16 procent kerkbelasting. De zwarte inkomsten stonden op rekeningen bij de plaatselijke Rabobank, waar de man accountmanager was.

Op het eerste gezicht is het verschil in strafmaat vreemd. Het lijkt logisch om het gestolen bedrag te koppelen aan de straf. Geef hierop je eigen commentaar.



## § 2 Opbouw van een redenering: OF en EN

Met ervaring en intuïtie heb je de problemen in het vorige paragraaf aangepakt. In dit hoofdstuk stellen we de zaken scherper. We bekijken eerst een zeer eenvoudige tekst om de opbouw te onderzoeken:



Deze redenering bestaat uit drie bouwstenen. De drie bouwstenen zijn ingekaderd en het woordje 'dus' is vervangen door een 'hieruit-volgt-pijl':



In de kaders staan zinnen die waar of onwaar kunnen zijn.

Een zin met deze eigenschap noemen we een **bewering** (in de logica: **propositie**). In dit voorbeeld is de derde bewering de **conclusie** van de redenering. De eerste twee zijn **uitgangspunten**.

De redenering zegt nu: ALS de *uitgangspunten* waar zijn, DAN is de *conclusie* ook waar.

De redenering zelf zegt NIET dat de uitgangspunten altijd waar zijn!

### Opgave 16

Hieronder staan nog een keer twee teksten uit de vorige paragraaf.

a. Zet beide redeneringen in een vorm met hokken en een 'hieruit-volgt-pijl'.

- *Geen enkel land van het Amerikaanse continent kun je democratisch noemen, want alle landen van het Amerikaanse continent zijn kapitalistische landen en in geen enkel kapitalistisch land is de democratie consequent verwezenlijkt.*
- *Alle landen van de volksdemocratie zijn van het juk van het imperialisme bevrijd. Dit land is een land van de volksdemocratie, dus heeft dit land geen last van imperialisme.*

In de twee bovenstaande teksten spelen 'want' en 'dus' een sleutelrol.

b. Noem nog een paar uitdrukkingen die de rol van 'dus' kunnen spelen en gebruik die in de twee teksten.

Beweringen (proposities) zijn zinsdelen die waar of onwaar kunnen zijn. Beweringen worden in zinnen verbonden door woorden als 'want' en 'dus'. Er zijn meer van dergelijke verbindingswoorden.

### Opgave 17

a. Geef van de volgende zinsdelen aan of het een bewering is:

1. De maan en de zon
2. Anton is vandaag jarig
3. Wat doe je?
4. Een driehoek heeft vier hoeken

b. Welke woorden verbinden de beweringen in de twee zinnen hieronder?

1. Als het morgen mooi weer is en ik heb geen huiswerk, dan ga ik naar het strand.
2. Ari heeft koorts, dus hij heeft griep of hij is ernstig verkouden.

De volgende uitspraak bestaat uit een aantal beweringen:

*Ik ga op de fiets en ik neem een boek mee, of ik kom op een andere manier en neem geen boek mee, maar wel een bos bloemen.*

De uitspraak is af te korten tot: “[A en B] of [(niet A) en (niet B) en C]”

c. Voor welke beweringen staan A, B en C?

In de volgende tekst komen een aantal proposities (beweringen) voor.

#### ***Hij is mathematicus en geen dichter***

“Je vergist je; ik ken hem heel goed. Hij is dichter en wiskundige en het was daarom te verwachten dat hij logisch zou redeneren. Wanneer hij alleen mathematicus was geweest, had hij helemaal niet kunnen redeneren en dan had de prefect het gemakkelijk van hem kunnen winnen.”

“Dat lijkt me een zonderlinge opvatting”, *zei ik*. “Door alle eeuwen heen is men er toch altijd algemeen van overtuigd geweest dat de mathematische manier van redeneren alle andere overtreft.”

“Men kan er zeker van zijn”, *antwoordde Dupin, een uitspraak van Chamfort citerend*, “dat alles waarvan men algemeen overtuigd is en waarover iedereen het eens is altijd onzin is, omdat het de mening van de grote massa vertegenwoordigt.” *En hij vervolgde*: “Ik geef toe dat de wiskundigen al hun best hebben gedaan om de gangbare dwaling omtrent de voortreffelijkheid van hun verstand te helpen verbreiden: maar dit neemt niet weg, dat het een dwaling is.”

***Edgar Allan Poe (dichter en géén wiskundige)***

*Hij is dichter en wiskundige* kunnen we herschrijven met twee proposities:

EN

Als we voor de twee proposities de afkortingen *D* en *W* gebruiken, dan kun je ze lezen als de samenstelling ‘*D* EN *W*’. Een propositie kan waar of onwaar zijn. Hoe zit dat voor deze samenstelling?

### Opgave 18

In de tabel hieronder is op een systematische manier nagegaan wat de waarheid is van de samenstelling  $D \text{ EN } W$ , afhankelijk van de waarheid van  $D$  en  $W$  ('o' is onwaar en 'w' is waar).

$D$	$W$	$D \text{ EN } W$
o	o	o
o	w	o
w	o	
w	w	w

- a. Waarom heeft de tabel vier rijen met o's en w's?

In de eerste rij kun je zien dat als  $D$  onwaar is en  $W$  is onwaar, dan is  $D \text{ EN } W$  ook onwaar.

- b. Ga na of de overige waarden voor  $D \text{ EN } W$  kloppen en vul de lege plekken in.

### Opgave 19

Voor EN wordt het symbool  $\wedge$  gebruikt. Voor 'o' en 'w' gebruikt men vaak de getallen 0 en 1.

De waarheidstafel (of waarheidstabel) voor proposities  $A$  (dichter) en  $B$  (wiskundige) komt er dan zo uit te zien:

$A$	$B$	$A \wedge B$
0	0	0
0	1	0
1	0	0
1	1	1

Met een waarheidstafel kun je precies nagaan wanneer een samengestelde bewering waar is.

De overgang van de gewone taal naar deze notaties gaat niet automatisch door de proposities te herschrijven en EN te vervangen door  $\wedge$ .

- a. Veranderen de waarden in de waarheidstafel als je  $A \wedge B$  vervangt door  $B \wedge A$ ?

In de gewone taal kan die verwisseling een betekenisverandering veroorzaken.

- b. Vergelijk de volgende zinnen met elkaar. Hebben ze dezelfde betekenis?
1. *Willem reed door en ramde het hek.*
  2. *Willem ramde het hek en reed door.*



### Opgave 20

Bij de uitspraak hij is dichter EN hij is geen wiskundige kunnen we de tweede propositie ook schrijven als: NIET hij is wiskundige

Voor deze ontkenning gebruiken we het  $\neg$  teken.

De uitspraak is dan te beschrijven met de volgende vorm:  $A \wedge \neg B$ .

De waarheidstafel voor  $\neg B$  geeft het tegenovergestelde van de waarde van  $B$ .

$B$	$\neg B$
0	1
1	0

Voor de samenstelling  $A \wedge \neg B$  wordt het al iets lastiger om de waarheidstafel te maken.

Extra kolommen helpen daarbij. Hieronder is een begin gemaakt. Vul de open plaatsen in.

$A$	$B$	$\neg B$	$A \wedge \neg B$
0	0	1	0
0	1	0	0
1	0	1	1
1	1		

### Opgave 21

Met de waarheidstafel kun je precies zien wanneer  $A \wedge \neg B$  waar is.

Onder welke condities is die samengestelde bewering waar?

### Opgave 22

In de volgende twee uitspraken wordt OF gebruikt:

- Je mag gebruikmaken van het openbaar vervoer als je een plaatsbewijs hebt of als je een identiteitsbewijs bij je hebt.
- Je mag gebruikmaken van korting als je jonger bent dan 12 jaar of als je ouder dan 65 jaar bent.

Het onderstreepte deel van de eerste zin kunnen we afkorten tot  $P \text{ OF } I$ .

In deze opgave gaan we na wanneer deze samenstelling waar is.

Hieronder staat de waarheidstafel.

$P$	$I$	$P \text{ OF } I$
0	0	0
0	1	1
1	0	1
1	1	?

- a. Maak aannemelijk dat '?' de waarde 1 heeft.

Het onderstreepte deel in de tweede zin is bedoeld als 'het is een van beide, maar niet beide'.

- b. Welke aanpassing van de waarheidstafel voor die OF is nodig?

Men spreekt wel van een **inclusieve of** (de eerste) en een **exclusieve of** (de tweede). In de praktijk zijn er meestal aanwijzingen om te kunnen beslissen welke of het is. Vaak is dit de inclusieve of en wordt bij de exclusieve of de of-of-vorm gebruikt. We gebruiken het symbool  $\vee$  voor de inclusieve of.

#### Ezelsbruggetjes

EN bevat de *n*-klank en heeft het symbool dat op een *n* lijkt:  $\wedge$

OF bevat de *v*-klank en heeft het symbool dat op de *v* lijkt:  $\vee$

Tweede bruggetje: EN en OF vormen samen de hoofdletter *N*:  $\vee\wedge$

#### Opgave 23

Nog een OF-combinatie:

## Wat is vandalisme

**DRIEBERGEN — Als de raad niet anders besluit, krijgt het bestuur van de Vereniging 'Een School met de Bijbel' geen vergoeding voor de kosten die gemaakt zijn om twee deuren van 'De Uilenburcht' schoon te maken. Het bestuur heeft de gemeente verzocht de schade te betalen.**

Twee houten deuren van 'De Uilenburcht' waren met een wervaste stift beklad. Het ziet er naar uit dat de reinigingskosten niet door de gemeente betaald worden, omdat het bekladden

van gebouwen niet als vandalisme beschouwd wordt. Het bestuur van de Vereniging 'Een school met de Bijbel' vond echter dat het met stiften bewerken van eigendommen wel onder vandalisme valt.

Wel of geen vandalisme! Is het wel vandalisme, dan vallen de kosten onder artikel 74 van de Wet op het basisonderwijs en moet de gemeente die betalen. Is het geen vandalisme, dan moet de verfbeurt uit eigen beurs betaald worden. De raad zal hoogst waarschijnlijk negatief beslissen, omdat er zich onlangs eenzelfde situatie voerde bij 'De Weideblom'. Toen werd het verwijderen van de 'graffitikunst' ook niet door de gemeente betaald.

Het artikel maakt gebruik van de combinatie: [het is wel vandalisme] OF [het is geen vandalisme]. Hoe kun je beslissen welke OF het is?

#### Opgave 24

Tot slot onderstaand raadsel (Bron: [www.puzzle.dse.nl/logical/index\\_nl.html](http://www.puzzle.dse.nl/logical/index_nl.html))

Hier staan drie antwoorden:

- Antwoord A.
- Antwoord A of B.
- Antwoord B of C.

Er is slechts één goed antwoord op de volgende vraag: Welk antwoord kan *alleen* goed zijn?

In een debat wordt de OF vaak misbruikt. Het suggereert namelijk een keuze tussen twee mogelijkheden. Die twee mogelijkheden hoeven echter niet alle opties te overdekken.

Dit is bijvoorbeeld te zien in discussies rond het ontstaan van onze aarde. Zo'n discussie start dan met het uitgangspunt: de wereld is geschapen OF de wereld is ontstaan na een *big bang*. Dit uitgangspunt suggereert dat OF de ene OF de andere propositie waar moet zijn.

Vervolgens wordt aangetoond dat aan een van beide proposities kan worden getwijfeld en geconcludeerd wordt dat de ander dus het meest aannemelijk is ( $A \vee B, \neg B \rightarrow A$ ). Hierbij negeert men de optie dat er een derde oorzaak zou kunnen zijn ( $A \vee B \vee C, \neg B, \neg A \rightarrow C$ ).

De redenering is dan misschien logisch correct, maar de beperkte aanname heeft een foute conclusie tot gevolg. Bij het vak Nederlands hoort zo'n analyse van een debat bij het onderwerp retorica.

#### Samenvatting

In een redenering maak je gebruik van beweringen. Bewering zijn zinnen die waar of onwaar zijn.

Beweringen kun je samenstellen met de logische verbindingstekens  $\wedge$  (EN) en  $\vee$  (OF).

Met een waarheidstafel kun je systematisch nagaan onder welke condities een samengestelde bewering waar is.

#### Opgave 25

Deze paragraaf begint met bouwstenen van redeneringen en de hieruit-volgt-pijl.

Laat met een voorbeeld zien waarom de volgende redenering correct is:

$$\neg B, A \vee B \rightarrow A$$



### § 3 Implicatie

In een gezin wordt de volgende bewering geuit:

Als je geen onvoldoendes haalt, dan krijg je een scooter.

We kunnen deze samengestelde propositie splitsen in twee proposities:

ALS je haalt geen onvoldoendes DAN je krijgt een scooter

Deze samenstelling heet een **implicatie**.

Hierbij hoort een nieuw symbool:  $\Rightarrow$ , het implicatieteken.

Met de gebruikelijke afkortingen wordt het geheel:  $A \Rightarrow B$  (*A impliceert B*).

#### Opgave 26

De bovenstaande zin is niet alleen waar als je een scooter krijgt.

Stel de zin is waar en je krijgt geen scooter. Wat is er dan aan de hand?

#### Opgave 27

De centrale vraag van deze paragraaf is: onder welke condities is de samenstelling  $A \Rightarrow B$  waar?

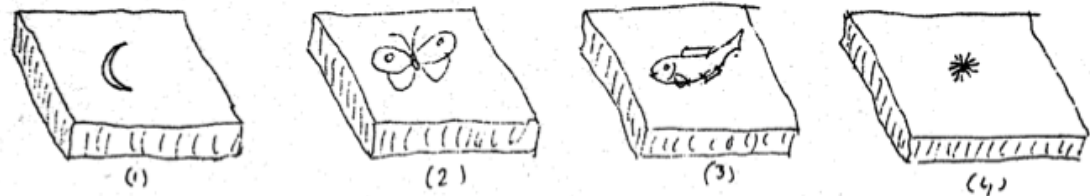
Hieronder zie je een begin van de waarheidstafel van  $A \Rightarrow B$ .

$A$	$B$	$A \Rightarrow B$
0	0	...
0	1	...
1	0	0
1	1	1

Ga na of de derde en vierde regel sporen met wat je verwacht van een 'als-dan-redenering'.

### Opgave 28

Op de grond liggen vier zeer zware stenen. Op de ene kant is altijd een dier (vis, vlinder, ...) getekend en op de andere kant een hemellichaam (maan, zon, ...).



Iemand beweert: "Als aan de ene kant een maan staat, dan staat aan de andere kant een vis."

- Stel de eerste twee stenen voldoen aan de bewering.  
Wat kan er dan aan de andere kant van de steen staan?
- Kan aan de andere kant van steen 4 een vis staan?
- Bij welke stenen kan aan de andere kant een maan staan?

De eerste en tweede regel in de waarheidstafel van de implicatie ( $A$  is onwaar) zijn vreemd.

Als je die situaties niet zou invullen, dan kunnen ze later storend zijn.

De knoop moet worden doorgehakt.

Het blijkt het beste om  $A \Rightarrow B$  in die lastige gevallen de waarheidswaarde 1 te geven.

Als  $A$  onwaar is, dan is  $A \Rightarrow B$  altijd waar, ongeacht de waarheidswaarde van  $B$ .

In de praktijk zie je dat terug in zinnen als:

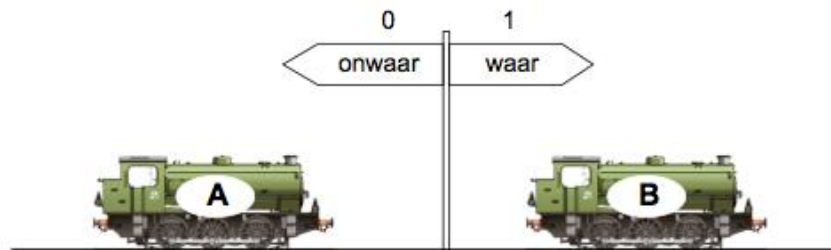
- Als de maan van kaas is, dan ben ik een boon.
- Als jij 200 jaar wordt, dan krijg je van mij 1000 euro.

Je kunt niet zeggen dat de zinnen onwaar zijn, dus spreekt men af dat ze waar zijn.

Denk hier maar eens over na.

### Opgave 29

Bekijk onderstaande situatie met twee locomotieven op één treinbaan. Botsen van locomotief  $A$  met locomotief  $B$  is verboden.



- a. De waarden 0 en 1 geven bij  $A$  en  $B$  de rijrichting aan. Bekijk alle mogelijke bewegingen van locomotief  $A$  en  $B$  en vul de tabel verder in:

$A$	$B$	Het gaat goed (geen botsing)
0	0	

- b. Vergelijk de waarheidstabel met die van de implicatie.  
Verklaar de overeenkomsten en de verschillen (als die er zijn).

**Let op**

$A \Rightarrow B$  betekent dat je in ieder geval weet: **als  $A$  dan  $B$** . Maar je weet niet of het de enige manier is om bij  $B$  te komen.

In het voorbeeld hierboven kunnen er ook andere redenen zijn om iemand 1000 euro te geven. Dus als je iemand 1000 euro geeft, dan hoeft dat niet te betekenen dat die geveer 200 jaar geworden is.

**Opgave 30**

Bekijk de twee strips van Peter van Straaten aan het begin van dit boekje.  
Geef commentaar op de implicatie in de strips.

De waarheidstafel van  $A \Rightarrow B$  wordt dus:

$A$	$B$	$A \Rightarrow B$
0	0	1
0	1	1
1	0	0
1	1	1

**Opgave 31**

Er zijn veel varianten van 'als-dan-redeneringen'. Schrijf onderstaande teksten in de vorm  $A \Rightarrow B$ .

- Als de lichten in het centrum uitgaan, schiet de criminaliteit omhoog.
- Mensen die hun spaargeld beleggen in aandelen, nemen de verkeerde beslissingen als zij zich door hun emoties laten leiden.
- Je werkt levenslang hard en spaart wat geld waarover je belasting betaalt. Als je daarvan iets wilt nalaten aan je kinderen, komt de fiscus nogmaals langs om de helft van dat geld op te halen.

### Opgave 32

Bij grotere teksten kun je de proposities onderstrepen en nummeren.

Omcirkel bovendien de termen die een implicatie aangeven.

- a. Wanneer een tot het Gerecht gericht verzoekschrift of ander processtuk bij vergissing wordt neergelegd bij de griffier van het Hof van Justitie, wordt het onverwijld doorgezonden naar de griffier van het Gerecht. (*Bron: Europese grondwet*)
- b. Indien voor bepaalde grondstoffen een gemeenschappelijke ordening in het leven wordt geroepen voordat er een gemeenschappelijke ordening voor de overeenkomstige verwerkte producten bestaat, mogen de betrokken grondstoffen die gebruikt worden voor de producten welke voor de uitvoer naar derde landen zijn bestemd van buiten de Unie worden ingevoerd.



## Samenvatting

### De taal van de logica

De taal van de logica voor zover we die nu hebben ontwikkeld bestaat uit:

**Propositieletters**,  $\wedge$ ,  $\neg$ ,  $\vee$ ,  $\Rightarrow$ , ( en ).

Je kunt met deze *woordenschat* heel veel uitdrukkingen maken, maar je kunt niet in het wilde weg iets opschrijven. Deze taal heeft namelijk ook een GRAMMATICA.

$\wedge \wedge \wedge A$  Is onzin.

$\neg \neg \neg A$  Kan wel als we ook nog beschikken over haakjes.

Die hebben we dus ook nodig:  $\neg (\neg (\neg A))$ .

De logica waar we mee bezig zijn, hoort bij een geïdealiseerde wereld. Zo hebben we immers afgesproken dat een bewering waar of onwaar is, hoewel we in de werkelijkheid ook wel eens aannemen dat een bewering niet zeker waar, maar wel erg aannemelijk is.

Ook zijn niet alle zinnen te symboliseren in de taal van de logica. Bekijk bijvoorbeeld:

- *Jan komt, maar Marie komt niet.*
- *Hoewel Jan op tijd is, zal het feest toch niet doorgaan.*

Als je de eerste zin vertaalt met  $[\text{Jan komt}] \wedge [\text{Marie komt niet}]$ , dan lijkt de zin er wel op, maar toch ben je informatie verloren, de betekenis is net iets anders.

Met een waarheidstafel kun je systematisch nagaan wanneer een samengestelde bewering waar is. In de waarheidstafel staan alle *combinaties* van waarheidswaarden van de onderdelen van de bewering en de afgeleide waarheidswaarden van de samenstelling.

De waarheidstafels voor  $\wedge$ ,  $\vee$  en  $\Rightarrow$  zijn:

G	R	$G \wedge R$
0	0	0
0	1	0
1	0	0
1	1	1

G	R	$G \vee R$
0	0	0
0	1	1
1	0	1
1	1	1

G	R	$G \Rightarrow R$
0	0	1
0	1	1
1	0	0
1	1	1

Hierboven kun je bijvoorbeeld zien dat als  $G$  waar is (1) en  $R$  is onwaar (0), dan is de bewering  $G \wedge R$  onwaar (0).

$G \Rightarrow R$  betekent: **als G dan R.**

Maar je weet niet of het de enige manier is om bij  $R$  te komen (het betekent dus niet:  $R \Rightarrow G$ ).

In de waarheidstafel kun je zien dat de bewering  $G \Rightarrow R$  waar is als  $G$  onwaar is (de waarheidswaarde van  $R$  doet er dan niet meer toe).



## Extra opdrachten en verdieping

De positie van  $\neg$  (niet) heeft gevolgen voor een bewering. Vergelijk de volgende drie zinnen:

- Als de appel groen is, dan is hij niet rijp.
- Als de appel niet groen is, dan is hij rijp.
- Het is niet zo dat een appel rijp is als hij groen is.

Deze drie zinnen zijn als volgt te schrijven in de taal van de logica:

- $G \Rightarrow \neg R$
- $\neg G \Rightarrow R$
- $\neg (G \Rightarrow R)$

Met waarheidstafels kun je nagaan dat de drie bovenstaande zinnen niet hetzelfde zeggen.

Hieronder is aangegeven wat de waarheidswaarde van de eerste zin is (afgeleid van alle combinaties van waarden voor  $G$  en  $R$ ) met een hulpkolom voor  $\neg R$ .

$G$	$R$	$\neg R$	$G \Rightarrow \neg R$
0	0	1	<b>1</b>
0	1	0	<b>1</b>
1	0	1	<b>1</b>
1	1	0	<b>0</b>

Bij de volgende twee waarheidstafels is de hulpkolom bij de samenstelling getekend:

$G$	$R$	$\neg G \Rightarrow R$	
0	0	1	<b>0</b>
0	1	1	<b>1</b>
1	0	0	<b>1</b>
1	1	0	<b>1</b>

$G$	$R$	$\neg (G \Rightarrow R)$	
0	0	<b>0</b>	1
0	1	<b>0</b>	1
1	0	<b>1</b>	0
1	1	<b>0</b>	1

### Opgave 33

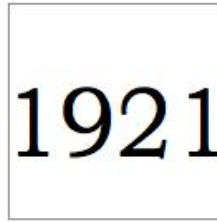
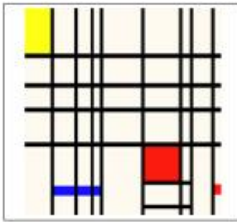
Ga met de waarheidstafels na dat de drie beweringen onder verschillende condities waar zijn.

### Opgave 34

Laat met waarheidstafels zien dat de zin  $A \Rightarrow B$  onder dezelfde condities waar is als de zin  $\neg A \vee B$ .

### Opgave 35

Hieronder staan vier kaartjes afgebeeld. Op het eerste kaartje zie je een abstract schilderij, op het tweede een figuratief werk (een boom). Op de achterkant van deze kaartjes staat het jaar waarin het werk is gemaakt. De rechter twee kaartjes liggen met het jaartal boven, op hun achterkant staat een schilderij afgebeeld dat in dat jaar is gemaakt door Mondriaan.



Een kunsthistoricus beweert dat al het figuratieve werk van Mondriaan van vóór 1915 is.

Om deze bewering te controleren mag je twee kaartjes omdraaien.

Welke kaartjes draai je om (en vooral: waarom)?



## § 4 Kenmerken van redeneringen

Hoever zijn we gekomen met de vragen aan het eind van paragraaf 2? Een redenering bestaat uit een weg van uitgangspunten (premissen) naar een conclusie.

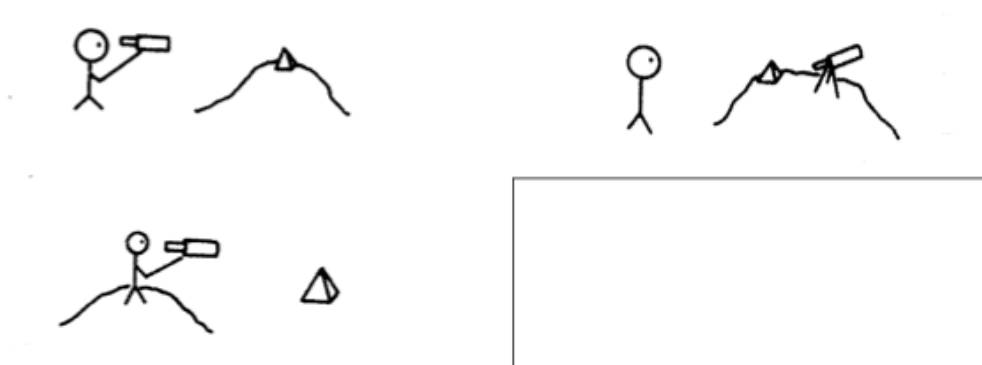
Proposities en samenstellingen zijn verbonden door de term 'hieruit volgt' of een uitdrukking met dezelfde betekenis, zoals 'dus'. Een propositie kan een fijnere structuur hebben, het kan namelijk een samenstelling zijn van uitgangspunten door middel van 'en', 'of' en 'als ... dan ...'.

Bij een eerste lezing van een betoog zijn woorden als 'dus', 'en', 'of' en hun soortgenoten belangrijke herkenningspunten.

Voorzichtigheid is geboden bij het omzetten van gewone taal naar logische taal. Je hebt soms achtergrondkennis nodig om de juiste interpretatie te kiezen.

Een extreem voorbeeld van deze problematiek is het volgende:

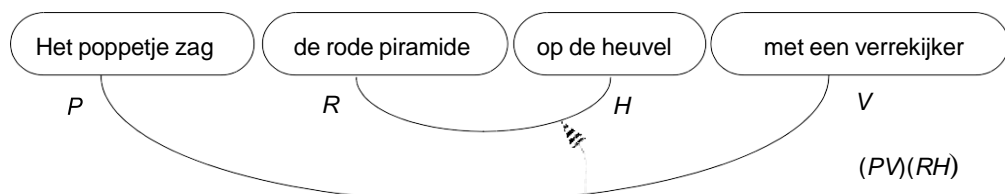
### Opgave 36



In de drie plaatjes zie je mogelijke interpretaties van de zin:

*Het poppetje zag de rode piramide op de heuvel met een verrekijker.*

- Teken een vierde plaatje dat een mogelijke interpretatie kan zijn.
- De meerduidigheid van de zin is een gevolg van de structuur die je in de zin aanbrengt. Bijvoorbeeld:



Ga hiermee eens experimenteren. Moeilijkheden zijn onvermijdelijk.

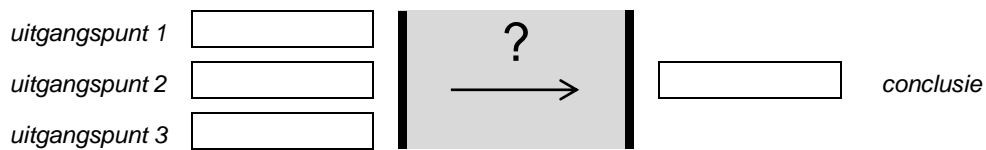
- Maak een versie van de zin die NIET tot misverstanden leidt.

Behalve uitgangspunten, proposities en conclusie is er meer nodig, zoals aanduidingen waarom een bepaalde stap in een redenering gezet mag worden. Vaak zijn aanduidingen niet compleet. De uiteindelijke vorm van de redenering kan heel verschillend zijn.

In het algemeen is dit schema niet de volledige redenering.



Meestal zijn er meer uitgangspunten, dan is er sprake van een meervoudige redenering. De plaats van uitgangspunten en conclusie kunnen in een tekst variëren. De redenering is ook zo te beschrijven:



Hoe kom je aan de overkant? Dat is een van de kernvragen in de logica. Om die te beantwoorden moet je eerst iets meer weten over proposities.

### De correctheid van een redenering

Een redenering is correct als er een verantwoorde weg is van uitgangspunten naar conclusie. Soms moet je de uitgangspunten aanvullen met kennis van het betreffende onderwerp. Bekijk bijvoorbeeld een opgave uit paragraaf 1:

**Logisch**

**C** [Slechts 11 procent van de Nederlanders reist met de bus of trein. Dat is de helft van het gemiddelde in Europa.]

**R** Logisch! [Voor de prijs van een enkeltje Lelystad-Weesp (€ 6,50) maak je in een gebied van 40 kilometer rondom Rome, 24 uur lang gebruik van al het openbaar vervoer (met uitzondering van vliegtuigen en taxi's).]

**D** En [voor die prijs kun je met je gezin de hele dag op een gezinskaart rondtoeren in Dresden.] Ik snap het wel.

Kennis over de situatie helpt bij het beschrijven van de weg naar de conclusie:



In zuivere logische redeneringen weet je niet eens waar de letters voor staan. Je hebt dan geen extra kennis.



Paragraaf 2 eindigde met een redenering met twee uitgangspunten en één conclusie:

$$\neg B, A \vee B \longrightarrow A$$

Deze vorm zegt dus: gegeven dat  $\neg B$  en  $A \vee B$  waar zijn, dan kunnen we concluderen dat  $A$  waar is.

In dit hoofdstuk onderzoeken we de volgende redeneervormen:

$$\neg B, A \Rightarrow B \longrightarrow ?$$

en

$$\neg A, A \Rightarrow B \longrightarrow ?$$

Kortom, de vraag is of er iets bij het vraagteken kan staan, zodat altijd klopt: ALS de twee uitgangspunten waar zijn, DAN is de conclusie waar.

### Opgave 37

Bedenk met een voorbeeld wat je bij de twee hierboven genoemde redeneervormen op de plek van het vraagteken kunt zetten.

Bij beide hierboven genoemde redeneervormen is  $A \Rightarrow B$  een uitgangspunt.

We nemen dus  $A \Rightarrow B$  is waar. Kortom, regel 3 van de waarheidstafel hieronder vervalt.

$A$	$B$	$A \Rightarrow B$
0	0	1
0	1	1
1	0	0
1	1	1

Wat kunnen conclusies zijn van een redenering met als uitgangspunt  $A \Rightarrow B$  en verschillende waarden voor  $A$  en  $B$ ?

#### Stel

$A$  is onwaar (0) en  $A \Rightarrow B$  is waar (1), dan kunnen we geen uitspraak doen over de waarheid van  $B$ .

Als  $A$  waar is (1) en  $A \Rightarrow B$  is waar (1), dan kunnen we concluderen dat  $B$  waar is.

#### Kortom

$A = 1$  en  $A \Rightarrow B = 1$ : regel 4, dus  $B = 1$ .

$B = 1$  en  $A \Rightarrow B = 1$ : geen uitspraak over  $A$ .

$B = 0$  en  $A \Rightarrow B = 1$ : regel 1, dus  $A = 0$ .

We houden twee bruikbare redeneringen over. Met de 'hieruit-volgt-pijl' zijn die:

$$A, A \Rightarrow B \longrightarrow B$$

(de oude naam is **modus ponens**)

en:

$$\neg B, A \Rightarrow B \longrightarrow \neg A$$

(de oude naam is **modus tollens**)

Een verleidelijke maar foutieve redenering is:

$$B, A \Rightarrow B \longrightarrow A$$

(die mag je noemen: **modus nonsens**)

### Opgave 38

Beschrijf deze drie redeneringen in eigen woorden met  $A$  voor 'goed geleerd' en  $B$  voor 'goed cijfer' en leg uit waarom de modus nonsens inderdaad een foutieve redenering is.

### Opgave 39

We bekijken nog eens de puzzel van de rode en zwarte petjes uit het begin van dit boekje:

Er zijn twee rode en drie zwarte petjes. Drie kinderen kennen de petjes en zitten in een rij. Ieder kind krijgt een petje op. Ze kunnen alleen de petjes zien van degenen die voor ze zitten.


Aan het achterste kind wordt gevraagd: "Weet jij welke kleur pet je op hebt?"

Ze kijkt naar de twee petjes voor zich, denkt even na en zegt dan: "Nee."

Vervolgens wordt dit aan de middelste gevraagd. Die ziet maar één petje voor zich, denkt na en antwoordt ook ontkennend.

De voorste is even stil en zegt: "Dan weet ik de kleur van mijn petje!"

Welke kleur is dat?



Een deel van de redenering van het middelste kind is:

Als [de achterste twee rode petjes voor zich ziet], dan [de achterste weet welk petje hij op heeft].

niet [de achterste weet welk petje hij op heeft].

Dus: niet [de achterste ziet twee rode petjes voor zich].

Deze redenering heeft de vorm van modus tollens.

Beschrijf zo ook de redenering (modus tollens) van het voorste kind met het antwoord van het middelste kind.

### Opgave 40

Bekijk de volgende uitspraak: Als het regent, gaat Jona met de bus naar school.

Wat kun je in de volgende situaties zeggen over het vervoer van Jona naar school of over het weer?

- Jona komt met de bus naar school.
- De zon schijnt.
- Het regent.
- Jona komt met de fiets naar school.

**Opgave 41**

Als een zeug meer dan 30 dagen geleden gebigd heeft, dan is de melkproductie per dag minder dan 5,5 kilogram.

Deze uitspraak is waar zolang je met deze opgave bezig bent.

In de volgende situaties weet je iets over het aantal dagen geleden dat er gebigd is of over de grootte van de melkproductie. Probeer telkens iets te concluderen met behulp van bovenstaande uitspraak.

- a. De zeug heeft 35 dagen geleden gebigd.
- b. De zeug heeft 23 dagen geleden gebigd.
- c. De melkproductie is 5 kilogram per dag.
- d. De zeug heeft 8 dagen geleden gebigd.
- e. De melkproductie is meer dan 5,5 kilogram per dag.
- f. De zeug heeft minder dan 30 dagen geleden gebigd.



Kern van dit hoofdstuk is de 'als-dan-redenering' met de 'hieruit-volgt-pijl':

## Samenvatting

We herhalen twee vragen uit het eind van paragraaf 2:

- **Wat is een redenering en hoe is die opgebouwd?**  
Een redenering bevat uitgangspunten waaruit een conclusie volgt.  
Daartussen zitten redeneerstappen.  
Als de uitgangspunten waar zijn, dan moet de conclusie ook waar zijn.
- **Wat is een redeneerstap en wanneer is die correct?**  
In een redeneerstap VERVANG je een of meer uitgangspunten DOOR een andere (samengestelde) propositie, die ook altijd waar is, als de uitgangspunten waar zijn.  
Met waarheidstafels kun je aantonen dat een stap correct is.

Kern van dit hoofdstuk is de 'als-dan-redenering' met de 'hieruit-volgt-pijl':

$$A, A \Rightarrow B \longrightarrow B$$

(Modus Ponens)

en:

$$\neg B, A \Rightarrow B \longrightarrow \neg A$$

(Modus Tollens)

De kenmerken van voorbeeld en tegenvoorbeeld komen onder andere aan de orde in paragraaf 6. Eerst werken we in de keuzestof van paragraaf 5 het gebruik van waarheidstafels uit.

### Voorbeeld

Je weet dat ik met de bus naar school ga als het regent. Het regent.

### Conclusie

Ik ga met de bus naar school.

### Nog een keer

Je weet dat ik met de bus naar school ga als het regent. Ik ben niet met de bus naar school gegaan.

Conclusie: het regende niet.

### Tot slot

Je weet dat ik met de bus naar school ga als het regent. Ik ga met de bus naar school.

Conclusie: het kan regenen, maar ik kan ook een lekke band hebben, of ... .



## Extra opdrachten

### Opgave 42

Ontleed de volgende tekst  
(van uitgangspunten via redeneerstappen naar conclusie).

- a. Een onderdeel van de redenering is:  
*Als mensen gestrest zijn, dan krijgen ze een hoge bloeddruk.*  
Beschrijf ook de overige onderdelen van de redenering in zo'n vorm, en laat zien wat de uitgangspunten van het geheel zijn en hoe de conclusie daaruit volgt (volgens de redenering).
- b. Wat vind jij van de redenering?
- c. Waarom heeft de journalist het woord 'mogelijk' in de kop gezet?

### Mogelijk tientallen doden door herrie

ROTTERDAM, 19 JUNI. In de regio Rijnmond overlijden jaarlijks mogelijk tientallen mensen aan de gevolgen van verkeersherrie. Dat concludeert de Milieumonitoring Stadsregio Rotterdam (MSR) vandaag in de jaarlijkse milieubarometer. Uit het rapport *Geluid, gezondheid en geld* blijkt dat één op de twaalf Rijnmonders slaapproblemen heeft door herrie. Bij ongeveer 3 procent neemt dat ernstige vormen aan. „Mensen raken daarvoor gestrest en lopen een hoge bloeddruk op. Dat kan weer leiden tot een beroerte of hartinfarct”, aldus een woordvoerder van de Milieudienst Rijnmond. Volgens het rapport scoort de Rotterdamse regio niet slecht in vergelijking met andere steden. (ANP)

### Opgave 43

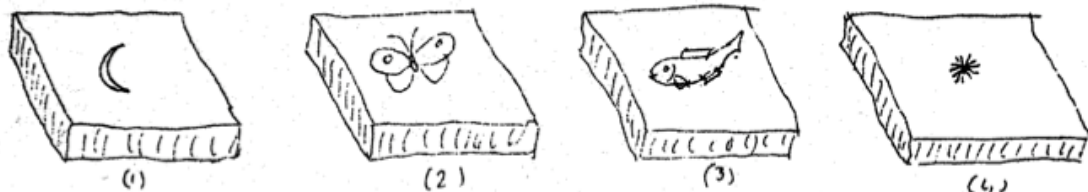
Uit een advertentie voor een automatisch horloge:

**Als dit horloge stil blijft staan, moet u een dokter bellen.  
Want dan hebt u zich al zeven dagen niet bewogen.**

Maak hiervan een volledige redenering.

### Opgave 44

Op de grond liggen we vier zeer zware stenen. Op de ene kant is altijd een dier (vis, vlinder, ...) getekend en op de andere kant een hemellichaam (maan, zon, ...).



Iemand beweert: "Als aan de ene kant een maan staat, dan staat aan de andere kant een vis."  
Welke stenen moet je omdraaien om de bewering te controleren?

#### Opgave 45

Gegeven zijn vier kaarten met aan de ene kant de naam van een land en aan de andere kant de huwbare leeftijd in dat land (bovenkant eerst): [Nederland, 18], [Afghanistan, 12], [19, USA], [14, Slowakije].

Stel: je ziet alleen de bovenkant van de vier kaarten. Welke kaart(en) moet je omdraaien om te controleren dat je in Europa pas mag trouwen na je zestiende.

#### Opgave 46

Gegeven zijn vier kaarten met op iedere kant een leeftijd en een bijbehorend drankje.

Regel: als je jonger dan 16 bent, dan mag je geen alcoholische drankjes drinken.

Op de vier kaarten is te zien: 14, 19, bier, cola.

Welke kaarten moet je omdraaien om dat te controleren?

#### Opgave 47

Eerste uitgangspunt: Als de lonen omhoog gaan, zullen de prijzen stijgen.

Tweede uitgangspunt: De lonen gaan omhoog.

Conclusie: De prijzen zullen stijgen.

Deze conclusie is logisch gerechtvaardigd.

Vervang de tweede premisse en de conclusie achtereenvolgens door de volgende uitspraken en onderzoek of de redenering dan nog steeds logisch correct is (gebruik eventueel een waarheidstafel).

- a. Tweede uitgangspunt: De prijzen stijgen.  
Conclusie: De lonen zijn omhoog gegaan.
- b. Tweede uitgangspunt: De lonen gaan niet omhoog.  
Conclusie: De prijzen stijgen niet.
- c. Tweede uitgangspunt: De prijzen gaan niet omhoog.  
Conclusie: De lonen zijn niet omhoog gegaan.

#### Opgave 48

Een dokter zegt: "Als je mijn medicijn slikt, dan word je beter." DUS:

- a. Als je beter bent, dan heb je zijn medicijn geslikt.
- b. Als je zijn medicijn niet slikt, word je niet beter.
- c. Als je niet beter bent, dan slikt je niet zijn medicijn.

Wat volgt er WEL, wat volgt er NIET?

#### Maar let op

Als iemand koorts heeft, dan voelt hij warm aan. Als de arts vindt dat je warm aanvoelt, zal hij denken dat je koorts hebt. Koorts is een mogelijke en voor de hand liggende oorzaak.

Deze redeneervorm wordt vaak gebruikt in de medische discipline!

### Opgave 49

Bekijk onderstaande afbeelding:



'Nu is het genoeg!' riep de directrice.  
Ze pakte de wezen bij elkaar en bracht ze naar bed.  
'Maar we zijn helemaal niet moe,' zeiden de wezen.

'Dat geeft niet,' zei de directrice. 'Zo gebeuren er tenminste  
geen ongelukken. Een olifant kan tegen een stootje,  
maar een kind is geen olifant.'

De directrice zegt: "Een olifant kan tegen een stootje, maar een kind is geen olifant."  
Is dit een geval van modus nonsens?



## § 5 Verdieping en gemengde opdrachten

### Opgave 50

Bekijk de strip hiernaast.

- Weet de vrouw met de geruite rok in alle gevallen waar hij is?
- Stel dat je weet dat de hoed weg is, maar van de jas en de paraplu weet je nog niets. Kun je dan al concluderen dat hij een kopje koffie is gaan drinken?

De voorwaarde 'er hangt niets meer' is voldoende om te weten dat hij weg is en die dag niet meer terug komt.

De hoed moet ook weg zijn, maar dat is onvoldoende om te concluderen dat hij weg is.

Men maakt hierbij een onderscheid tussen een **nodige voorwaarde** (hoed is weg) en een **voldoende voorwaarde** (alles is weg).



### Opgave 51

Moedermelk lijkt van invloed op het IQ van kinderen.

Is borstvoeding volgens de onderzoekers een nodige of een voldoende voorwaarde voor een goed IQ?

## Moedermelk alleen goed voor IQ als je gunstig DNA hebt

Borstvoeding verhoogt het IQ van kinderen, maakten Britse wetenschappers deze week bekend. Maar, voegden zij eraan toe, dat geldt alleen als het kind beschikt over een genvariant waardoor het vetten uit de moedermelk goed kan afbreken en opnemen.

Daar gáán we weer, zou de cynicus zeggen. Over het verband tussen borstvoeding en intelligentie wordt al gesproken sinds 1929. Toen stuitten wetenschappers voor het eerst op een mogelijke link. Sindsdien volgt de ene studie op de andere. Nu eens lijkt borstvoeding gunstig, dan weer niet. En steeds treden er twee vertekeningen op. Moeders die borstvoeding geven, zijn gemiddeld bijvoorbeeld iets slimmer dan andere moeders, en die aanleg geven zij door aan hun kroost. Bovendien krijgen kinderen met borstvoeding relatief veel aandacht, en ook dat werkt IQ-verhogend.

docsahexaeenzuur (DHA) en arachidonzuur (AA). Beide vetzuren zitten in moedermelk, niet in koemelk. De stoffen stapelen zich de eerste maanden na de geboorte in het brein op. Ze zorgen er mogelijk voor dat zenuwcellen meer onderlinge verbindingen aanleggen. Een efficiënt FADS2-gen kan daarom best leiden tot een hoger IQ, dachten de Britten.

Ze testten hun hypothese bij meer dan 3000 kinderen uit Groot-Brittannië en Nieuw-Zeeland. Degenen met het gunstige gen leken inderdaad veel baat te hebben bij borstvoeding: ze scoorden bijna 7 punten extra op een IQ-gemiddelde van 100. Geen borstvoeding betekende een verlaging, wel borstvoeding een verhoging. Bij kinderen met het ongunstige gen had borstvoeding geen effect.

We zien hier een overtuigend verschil én een mechanisme. Zijn we er dus... voor roept d... te... Zo ko... ti...



### Opgave 52

Chloorpromazine lijkt te helpen bij het verlagen van de neiging tot het plegen van strafbare feiten.

Zeer fraai was daarbij het onderzoek dat Schachter samen met Latané heeft verricht. Aan deze studie heeft de volgende gedachte ten grondslag gelegen. Als het juist is dat er een verband bestaat tussen een laag aktivatieniveau van het autonome zenuwstelsel en de neiging om strafbare feiten te plegen, dan zouden mensen bij wie het aktivatieniveau verlaagd wordt, eerder tot dit soort gedragingen moeten overgaan, dan mensen met een normaal aktivatieniveau.

Om deze hypothese te toetsen brachten zij studenten op ingenieuze wijze in de gelegenheid om te frauderen bij een tentamen. De helft van deze studenten had voorafgaand aan het tentamen chloorpromazine ingenomen, de overige studenten hadden een placebo gekregen. De chloorpromazine diende hierbij om langs kunstmatige weg een verlaging van het aktivatieniveau van het autonome zenuwstelsel van de betrokken studenten te bewerkstelligen.

De resultaten van het onderzoek hielden een bevestiging van de theorie in. De studenten met het verlaagde aktivatieniveau bleken achteraf significant meer gebruik te hebben gemaakt van de mogelijkheid om te frauderen dan de studenten uit de placebo-groep.<sup>17</sup>

- Herschrijf de eerste alinea in de vorm  $A \Rightarrow B$ , waarbij  $A$  en  $B$  goede Nederlandse zinnen zijn.
- In je symbolisatie stelt  $A$  de te toetsen theorie voor. Het experiment bevestigde deze theorie. Maak duidelijk dat de **bevestiging** van de theorie niet hetzelfde is als een **logisch bewijs** van de theorie.

### Opgave 53

Een voorbeeld kan een stelling, vermoeden of theorie bevestigen of illustreren.

Slechts één **tegenvoorbeeld** is voldoende om een theorie te weerleggen.

Het *vermoeden van Goldbach* is dat ieder even getal te schrijven is als de som van twee priemgetallen (getallen die je alleen door 1 en zichzelf kunt delen: 1, 2, 3, 5, 7, 11, ...).

- Geef drie voorbeelden van dit vermoeden.
- Wat zou één tegenvoorbeeld betekenen voor dit vermoeden?

### Opgave 54

In de volgende zinnen staan verschillende voegwoorden.

Schrijf deze zinnen in de taal van de logica. Laat daarmee duidelijk zien wat de conclusie is en onder welke voorwaarde die bereikt wordt.

- Bezwaarschriften worden niet in behandeling genomen, tenzij deze tijdig worden ingeleverd.
- U krijgt in de maand april bericht over eventuele belastingteruggave, mits u het daartoe strekkende aanvraagformulier tijdig indient.
- Zij laat nooit verstek gaan, behalve als ze echt ziek is.
- Je hebt recht op een versnapering, als je tenminste een consumptiebon bij je hebt.
- Het leven is zo prachtig wanneer alles goed gaat.

### Opgave 55

De ziekte van Lyme wordt overgedragen door de teek. Hoewel het diertje onschuldig lijkt, is het in staat om de bacterie die de ziekte van Lyme veroorzaakt – de bacterie *Borrelia burgdorferi* – op mensen over te dragen. Zeker in de zomer en het najaar is het oppassen geblazen. Dan kan een gezellige wandeling door het bos uitlopen op een regelrechte ramp. Je kunt er behoorlijk ziek van worden.

In een folder over tekenbeten staat dat je het beste contact met je huisarts kunt opnemen als:

- Er een rode vlek op de huid ontstaat die steeds groter wordt ( $S_1$ ).
- Er een grieperig gevoel ontstaat met koorts of spierpijn ( $S_2$ ).
- Je dubbel gaat zien of een scheef aangezicht krijgt ( $S_3$ ).
- Je pijn, krachtverlies of tintelingen in uw ledematen krijgt ( $S_4$ ).
- Er gewrichtsklachten ontstaan ( $S_5$ ).

a. We hebben de vijf symptomen genummerd. Ga na dat we dan krijgen:

$S_1 \Rightarrow D, S_2 \Rightarrow D, S_3 \Rightarrow D, S_4 \Rightarrow D$  en  $S_5 \Rightarrow D$ , waarin  $D$  de gang naar de dokter betekent.

We willen dit eenvoudiger schrijven in één samenstelling:  $(S_1 \dots S_2 \dots S_3 \dots S_4 \dots S_5) \Rightarrow D$ .

Maar nu ontstaat de vraag welke propositieletter we op de plaats van de stipjes moeten zetten.

- Onderzoek wat het in de praktijk betekent als je voor een  $\vee$  kiest.
- Idem voor een  $\wedge$ .
- Zijn deze resultaten realistisch?
- Weet je een beter alternatief?

### Opgave 56

Yvonne Keuls schreef het boek **MEVROUW MIJN MOEDER** over haar Indische wortels en de repatriëring naar Nederland. Hiernaast zie je een citaat uit het boek.

Beschrijf hoe de logica van de moeder verschilt van die van vriendin Willie.

Ik zat op de kweekschool van het Haags Genootschap in de Antonie Duyckstraat – ‘Kinderen zijn er altijd geweest, dus mijn dochters worden onderwijzeres’. Het was mijn eerste schooldag. Naast mij zat Willie H., tot op haar hemd nat, want ze was in de regen uit Leiden komen fietsen.

‘Als het nu straks nog zo regent, dan kan je wel bij mij slapen,’ zei ik.

‘Vindt je moeder dat goed?’ vroeg Willie verbaasd. ‘Ze kent me niet eens.’

Mijn verbazing was al net zo groot als de hare. ‘Waarom zou ze jou moeten kennen?’ vroeg ik. ‘Het regent toch?’

Ik sprak de logica uit van mijn moeder. Haar gastvrijheid was natuurlijk en ging niet uit van de persoon, maar van de omstandigheid. Wanneer het regent, geef je iemand onderdak. Wanneer de laatste tram niet is gehaald, wanneer er ruzie is thuis, geen gezeur, je geeft hem onderdak.



### Opgave 57

Een groot ruimteschip is geland op een verre planeet. De dampkring heeft zoveel overeenkomst met die van de aarde dat het dragen van een ruimtepak niet nodig is. De mensen kunnen zich weer eens echt aards bewegen.

Na 2 weken is er een aantal mensen met overwegend huidklachten. Gelukkig zijn die ongemakken na een dag of vier weer voorbij. Maar dan, ongeveer 1 maand na de landing, komen er mensen met ernstige kwalen: doofheid, blindheid en verlamming van de ledematen.

Nu blijken de slachtoffers veertien dagen geleden allerlei klachten te hebben gehad die misschien als symptomen van die ernstige kwalen beschouwd kunnen worden. Deze symptomen zijn: gereduceerde transpiratie, ontkleuring van de huid, sterke haaruitval en leerachtige huid.

De artsen beschikken eigenlijk over te weinig waarnemingen over het verband tussen symptomen en kwalen. En het weinige dat ze weten lijkt wel een tegenstrijdig. Maar toch maken ze een voorlopige balans op:

- I. Als iemand doof wordt, dan heeft hij gereduceerde transpiratie en geen ontkleuring van de huid.
- II. Als iemand niet doof wordt, maar wel verlamming van de ledematen krijgt, dan heeft hij een leerachtige huid.
- III. Als iemand niet blind wordt, maar wel een verlamming van de ledematen krijgt, dan heeft hij gereduceerde transpiratie en sterke haaruitval.
- IV. Als iemand blind wordt en dat samen gaat met doofheid of met normaal blijven van de ledematen, dan heeft hij geen gereduceerde transpiratie, maar wel een leerachtige huid.

Om deze regels in te voeren in de boordcomputer, moeten ze eerst vertaald worden in de taal van de logica.

- a. Doe dat door voor de kwalen te gebruiken  $K_1$ ,  $K_2$  en  $K_3$  en voor de symptomen  $S_1$ ,  $S_2$ ,  $S_3$ , en  $S_4$ .

Iemand heeft ontkleuring van de huid, maar beslist geen sterke haaruitval en ook geen leerachtige huid. De transpiratie is een twijfelgeval.

- b. Onderzoek van de computer kan meedelen over de eventuele kwalen van de deze ruimtevaarder, als alleen de regels I, II en III gebruikt worden.
- c. Als de regels I, II en III aangevuld worden met regel IV, dan ontstaan er tegenstrijdigheden. Toon dat aan.

### Opgave 58

- a. Beredeneer of laat met waarheidstafels zien dat de volgende drie uitspraken equivalent zijn:  
 $A \Rightarrow B$  en  $\neg A \vee B$  en  $\neg B \Rightarrow \neg A$ .
- b. Illustreer met een voorbeeld dat deze drie samenstellingen equivalent zijn door het voorbeeld op drie manieren te beschrijven.
- c. Gebruik je voorbeeld om aan te tonen dat  $A \Rightarrow B$  *niet* equivalent is met  $B \Rightarrow A$ .
- d. Onderzoek of  $A \Rightarrow B$  en  $\neg A \Rightarrow \neg B$  equivalent zijn.

## Samenvatting

In deze paragraaf zijn een aantal nieuwe begrippen behandeld:

- Onderscheid tussen een nodige en een voldoende voorwaarde.
- Verschil tussen een voorbeeld (een illustratie) en een tegenvoorbeeld (weerlegt een theorie).
- Uitbreiden van de tweewaardige logica naar meerdere waardes (meerwaardige logica).

*Een Belg en een Nederlander zitten samen in de trein. De Belg leest een boek over logica.*

*“Logica”, vraagt de Nederlander, “ wat is logica?”*

*“Wel”, zegt de Belg, “heb je goudvissen?” “Ja.”*

*“Wel, dan houd je van dieren.” “Ja, dat klopt.”*

*“Wel, als je van dieren houd, houd je ook van mensen.” “Ja, dat klopt ook.”*

*“En als je van mensen houd, dan houd je ook van kinderen.” “Ja, ik houd van kinderen.”*

*“Wel, en als je van kinderen houd, heb je natuurlijk ook kinderen.” “Ja, dat klopt.”*

*“Wel, en als je kinderen hebt, ben je getrouwd.” “Ja, dat klopt ook.”*

*“Wel, als je getrouwd bent, ben je geen homo.” “Nee”, zegt de Nederlander, “ik ben geen homo!”*

*“Wel”, zegt de Belg, “dat is logica.”*

*Stapt de Belg uit en komt er een andere Nederlander tegenover de eerste zitten. “Nou”, zegt*

*Nederlander 1, “er was net een Belg, en die las een boek over logica, kei interessant!”*

*“Logica”, vraagt Nederlander 2, “wat is dat”?*

*“Nou, heb je goudvissen?” “Nee.” “Wel, dan ben je een homo.”*





## § 6 Contradictie en paradox

In de titel van dit hoofdstuk staan twee termen die voorkomen in klassieke teksten over logica.

Enkele historische logici zullen in deze paragraaf de revue passeren.


Eerst volgen drie opgaven die bedoeld zijn om zelf een idee te krijgen waarover de termen gaan en welke logische problemen ermee geïdentificeerd worden.

### Opgave 59

Als je onderstaande plaatjes logisch bekijkt, dan is er iets vreemds aan de hand.

Probeer dat onder woorden te brengen.

### Opgave 60



Twee uitspraken over een wedstrijd:

1. *Wij hebben gewonnen en zij hebben verloren.*
2. *Wij schakelen ze uit, we maken ze in en we verpletteren ze.*

Beschrijf de twee uitspraken met een combinatie van proposities en geef 'logisch' commentaar op beide zinnen.

### Opgave 61

Dichterlijke taal:

- a. *Want wat dood is is dood, maar wat vermoord is leeft voort.* (M. Nijhoff)
- b. *Ik verga en duur.* (Ellen Warmond)
- c. *Sinds je er bent, ben ik weer alleen.* (Ellen Warmond)
- d. *The more I give to thee, the more I have.* (Shakespeare)
- e. *I am not who I am.*
- f. *Voorspellen is moeilijk, zeker als het om de toekomst gaat.* (Wim Kan)

Deze dichters kramen geen onzin uit. Waarom dan toch deze uitspraken?  
Bedenk zinnige betekenissen van de uitspraken.

In opgave 59 staan twee strips. Een woord of begrip is door een netwerk verbonden met andere woorden. Daardoor kan een woord een ander woord oproepen. Hier kan 'tank' leiden tot 'oorlog'. Zo ontstaat de tegenstelling oorlog-vrede en dat is de bedoeling van de cartoonist.  
De andere strip gaat over het voorkomen van het zaaien van haat. De strip laat zien dat het aanpakken van haatzaaiers juist leidt tot haatzaaien: *als P dan niet Q* staat tegenover *als P dan Q*.

Bij opgave 60 zijn meerdere symbolisaties mogelijk. Eigenlijk komt het telkens neer op  $A \& A \& A \dots$ . In deze gevallen is iedere vorm equivalent met  $A$  (we hebben gewonnen).  
Vooral bij de tweede zin is gebruik gemaakt van een recept uit de retoriek (de kunst van het overtuigen), namelijk: herhaling met toenemende sterkte.

In opgave 61 lijken de uitspraken op het eerste gezicht 'dubbelop' of een 'tegenstelling'. Bij nadere beschouwing is dat echter anders te interpreteren doordat bijvoorbeeld het woord 'dood' in verschillende netwerken kan voorkomen. Deze methode van verrassing daagt uit om de zin nog eens te lezen en om de lezer beter te raken. Een 'dubbelop' en een 'tegenstelling' blijven beter in ons brein hangen. En dat is natuurlijk de bedoeling van de auteur: aansporen tot verder lezen.

Kunnen we met onze logica enige greep krijgen op deze verschijnselen?  
Bekijk eens de volgende waarheidstabellen:

A	B	$A \Rightarrow (A \vee B)$	$A \vee (A \wedge B)$	$(A \wedge B) \wedge (\neg A \vee \neg B)$
0	0	1	0	0
0	1	1	0	0
1	0	1	1	0
1	1	1	1	0
		(1)	(2)	(3)

Er zijn dus proposities die altijd waar zijn (1), en die nooit waar zijn (3).  
Een propositie die altijd waar is, noemen we een **tautologie**.  
Een propositie die nooit waar is, heet een **contradictie** (tegenstelling).

### Opgave 62

Een oefening voor de twee soorten proposities.  
Bepaal of er bij onderstaande uitspraken sprake is van een tautologie of een contradictie.

- |                      |                           |
|----------------------|---------------------------|
| a. $A \vee A$        | d. $A \vee \neg A$        |
| b. $A \wedge A$      | e. $A \wedge \neg A$      |
| c. $A \Rightarrow A$ | f. $A \Rightarrow \neg A$ |

We missen in de waarheidstabellen proposities die op het eerste gezicht een contradictie vormen, maar het bij doordenken niet blijken te zijn.

### Opgave 63

Het citaat van Nijhoff: *Want wat dood is is dood, maar wat vermoord is leeft voort.*

In het tweede deel staat zo'n schijncontradictie.

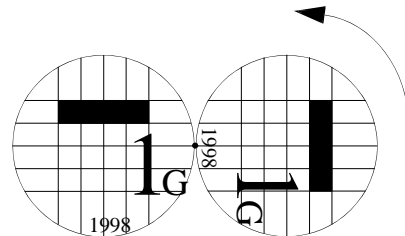
- Wat is de contradictie?
- Waarom is het een schijncontradictie?

De officiële naam voor een schijncontradictie is **paradox**. Soms wordt het begrip uitgebreid tot situaties waarbij een vraag een niet verwacht antwoord heeft. De volgende opgave is daarvan een illustratie.

### Opgave 64

Twee guldens (ken je ze nog?) liggen tegen elkaar aan. De linker gulden ligt vast. De rechter gulden gaat nu – zonder slippen – om de linker rollen.

De vraag is hoeveel omwentelingen deze gulden nodig heeft om in de oorspronkelijke positie terecht te komen?



Je denkt dat het antwoord één zal zijn. Maar ...

...in de oudheid hielden Grieken zich al bezig met paradoxen. De bekendste Griek is misschien wel Zeno van Elea (ca.490 - ca.430 v.Chr.). Zijn uiteenzettingen over de onmogelijkheid van beweging (zoals in onderstaand verhaal van Achilles en de schildpad) zijn beroemd en berucht.

*De schildpad daagde Achilles uit voor een hardloopwedstrijd. Hij beweerde dat hij zou winnen als Achilles hem een kleine voorsprong gaf. Achilles moest lachen, want hij was natuurlijk een machtige strijder, snel van voet, terwijl de Schildpad zwaar en langzaam was.*

*"Hoeveel voorsprong?" vroeg hij de Schildpad met een glimlach. "Tien meter", antwoordde deze.*

*Achilles lachte harder dan ooit.*

*"Dan ga jij zeker verliezen, vriend", vertelde hij de Schildpad, "maar laten we vooral rennen, als je graag wilt." "In tegendeel", zei de Schildpad, "ik zal winnen, en ik kan het je met een eenvoudige redenering bewijzen." "Kom op dan", antwoordde Achilles, die al iets minder vertrouwen voelde dan voordien. Hij wist hij de superieure atleet was, maar hij wist ook de Schildpad een scherper verstand had, en dat hij al vaak een discussie met het dier had verloren.*

*"Veronderstel", begon de Schildpad, "dat u me een voorsprong van 10 meter geeft. Zou u zeggen dat u die 10 meters tussen ons snel kan afleggen?" "Zeer snel", bevestigde Achilles.*

*"En hoeveel meter heb ik in die tijd afgelegd, denkt u?" "Misschien een meter – niet meer", zei Achilles na even nagedacht te hebben. "Zeer goed", antwoordde de Schildpad, "dus nu is er een meter afstand tussen ons. En zou u die achterstand snel inlopen?" "Zeer snel inderdaad!"*

*"En toch zal ik in die tijd verder gegaan zijn, zodat u DIE afstand moet inhalen, ja?" "Euh ja", zei Achilles langzaam. "En terwijl u dat doet, zal ik een stukje verder gegaan zijn, zodat u steeds een nieuwe achterstand moet inlopen", ging de Schildpad stug door.*

*Achilles zei niets.*



"En zo ziet u, elke periode dat u bezig bent uw achterstand in te halen zal ik gebruiken om een nieuwe afstand, hoe klein ook, aan die achterstand toe te voegen."

"Inderdaad, daar valt geen speld tussen te krijgen", *antwoordde Achilles, nu al vermoeid.*

"En zo kunt u nooit de achterstand inlopen", *besloot de Schildpad met een sympathieke glimlach.*

"U heeft gelijk, zoals altijd", *besloot Achilles droevig - en gaf de race gewonnen.*

### **Conclusie**

De achterstand wordt kleiner, maar Achilles haalt de schildpad nooit in.

Dit is een paradox, want in werkelijkheid zou Achilles de schildpad wel inhalen. Deze paradox is met een wiskundige redenering op te lossen, maar dat is niet eenvoudig.

### **Opgave 65**

Probeer de paradox zelf op te lossen

(of zoek op internet de oplossing van deze paradox van Achilles en de schildpad).

### **Opgave 66**

Twee klassieke paradoxen zijn de leugenaarsparadox en de paradox over de kapper die iedereen knipt die zichzelf niet knipt.

Zoek op internet naar klassieke paradoxen. Verzamel er tenminste drie. Beschrijf waarom het een schijnbare tegenstelling betreft en – indien mogelijk – geef aan hoe de tegenstelling kan worden opgelost.



## Opgave 67

Het Belgische artikel hieronder gaat over de relatie tussen straatverlichting en verkeersveiligheid. In het artikel wordt geschreven over een paradox.

### **Vals gevoel van veiligheid**

*Een aspect dat zowel door de overheid als door de bevolking vaak als argument ten voordele van verlichting wordt aangehaald, is de veiligheid. En uiteraard, het bestrijden van lichthinder en lichtvervuiling mag die veiligheid niet in gevaar brengen. Maar heel wat onderzoeken hebben echter aangetoond dat het meestal slechts om een gevoel van veiligheid gaat.*

*Een Europese studie, aangevraagd door verzekeringsmaatschappijen, publiceerde per land het aantal doden per 10.000 voertuigen en leverde volgende resultaten. In Denemarken, een van de minst verlichte landen in Europa, telde men op één jaar 59 doden. Frankrijk, waar men enkel in steden en op- en afritten verlicht, telde 83 slachtoffers per jaar. België, met veel verlichting, telde maar liefst 203 doden!*

*Het moet natuurlijk gezegd dat België een van de dichtst bevolkte landen ter wereld is, maar ook in België zelf toonde een onderzoek van dokter Luc Beaucourt van de afdeling spoedopname van het UIA-ziekenhuis in Antwerpen aan dat er geen verband kan worden vastgesteld tussen meer ongevallen en minder verlichting.*

*Hoe kan men deze paradoxale situatie verklaren? Er zijn een aantal duidelijke redenen. Het is bewezen dat men roekelozer wordt wanneer de weg beter verlicht is. Men denkt immers dat men een gevaar snel genoeg zal opmerken wanneer de weg baadt in het licht. Hoewel dit in sommige gevallen waar is, moet men ook het volgende in acht nemen: wanneer de hindernis overstraald wordt door verlichting, wordt het juist moeilijker om de afstand en omvang ervan in te schatten.*

*Waarschuwingssignalisatie, zij het van aan de gang zijnde werken of gewoon de remlichten van auto's, valt minder snel op. Zo gebeuren heel wat ongevallen achteraan een file, waar een auto of vrachtwagen niet snel genoeg merkte dat er iets aan de hand was en hierdoor niet tijdig kon remmen. Verlichting overstraalt vaak ook de koplampen van auto's, waardoor tegenliggers pas op het laatste moment worden opgemerkt. Bij een inhalingsmaneuver of wanneer er een spookrijder op de baan rijdt kan dit nefaste [noodlottige, red.] gevolgen hebben. En een auto die in een ongeval dan toch van de baan gaat heeft in België dan ook nog eens het grote gevaar dat er een lantaampaal in de berm staat, die tegen hoge snelheden een dodelijke impact kan veroorzaken.*

*(Bron: [www.vvs.be/wg/lichthinder/mensen.php](http://www.vvs.be/wg/lichthinder/mensen.php))*

- a. Leg uit waarom hier sprake is van een paradox.
- b. Hoe wordt deze paradox verklaard?

### Opgave 68

Onderstaande tekst komt uit het boek **MAGIE VAN HET GEZOND VERSTAND** door Georges Charpak en Henri Boch. Ze signaleren dat in onze samenleving het bijgeloof in opmars is, terwijl het aantal verschijnselen waarop dat geloof gebaseerd is juist afneemt. Ze benoemen deze paradox als een schijnbare tegenstrijdigheid. Waarom schijnbaar?

We verkeren nu dus in een wat paradoxale fase waarin het geloof aan het 'paranormale' in de breedste zin van de term aan een opmars bezig is, vooral in meer ontwikkelde kringen, terwijl het aantal en de intensiteit van die verschijnselen juist drastisch afnemen.

De voornaamste redenen van deze schijnbare tegenstrijdigheid zijn de volgende:

Om te beginnen zijn er de elektronische media. Het corpus van paranormale verschijnselen ondervindt hulp en steun van de elektronische media (vooral radio, tv en internet) die optreden als platform en signaalversterker en wel op een manier die in het verleden onbekend was. Was men bij het begin van de 20ste eeuw alleen in de omtrek op de hoogte als een boze geest zich manifesteerde in een dorpje, nu hoeft een nietsvermoedende klopgeest zich ook maar één keer te laten zien, of de hele planeet is via CNN op de hoogte van het verschijnsel.

Vervolgens zijn er medialeugens en inbreuken op beroepscode. De media – generaliseren is uiteraard onjuist en daarom zouden we beter spreken van 'een paar media die hun inhoud krijgen via programmamakers en journalisten' – vervullen in het geheel niet de stichtelijke Prometheus-rol waarvan hun oprichters vaak droomden. Ze presenteren lezers, luisteraars en kijkers ook niet wat ze voorgeschoteld zouden willen krijgen. Ze zijn niet de vertolkers, de bemiddelaars, de 'mediums' van een bestaande vraag, ze *creëren* die vraag zelf en doen dan alsof ze daar gewoon op inspelen. Ze zijn niet onpartijdig. Integendeel: ze accentueren en verhefven de heropleving van navelstaren en koffiedik kijken.

Tot slot is er de onderwijswereld als doorgeefluik. In tegenstelling tot wat je zou mogen vermoeden – en ter bevestiging van het peil van het bijgeloof naar beroepsgroepen, zoals op de vorige pagina's grafisch weergegeven – is het onderwijsmilieu bepaald niet immuun voor bijgeloof. Soms zijn docenten zelfs een soort doorgeefluik voor pseudowetenschappen en andere bakerpraatjes. Onthutsende voorbeelden te over, of het nu gaat om miniversies van de piramide van Cheops waarin de wijn die wordt verkocht door een wijncoöperatie van leraren sneller oud wordt of om een catalogus van boeken voor docenten die groot heil verwachten van wichelroedeloperij of astrologie.



Tot slot

### Opgave 69

*Als de brug open is, dan staat het sein op onveilig.*

De tekst hieronder komt uit het boekje **EXACTE LOGICA** van de wiskundige Hans Freudenthal. Wat is je commentaar op zijn voorbeeld voor de motivatie van de waarheidswaarden van de 'als-dan-vorm'?

Om te weten te komen, of een samengestelde propositie „ $p$  en  $q$ ” waar is, behoeft ik alleen te weten, of de twee onderdelen  $p, q$  waar zijn. Is dat het geval, dan is „ $p$  en  $q$ ” waar. Enige nadere kennis omtrent de inhoud van  $p$  of van  $q$  is hiervoor niet vereist. Evenzo kan ik tot de waarheid van „ $p$  of  $q$ ” besluiten, zodra ik weet dat tenminste een der samenstellende proposities waar is; de inhoud van  $p$  en van  $q$  doet er niet toe.

(Merk op: „ $p$  of  $q$ ” wordt ook dan als waar beschouwd, wanneer zowel  $p$  als ook  $q$  waar is.)

Iets dergelijks geldt ten aanzien van „als  $p$ , dan  $q$ ”. Wanneer is zulk een propositie waar? Laten we het voorbeeld van daarstraks beschouwen. Er zijn op zichzelf vier mogelijkheden, die we door de vier hokjes in het schema

	brug	open	dicht
sein	onveilig		
	veilig		

willen weergeven. Welke van deze vier gebeurlijkheden bevestigen nu de uitspraak

„als de brug open is, dan staat het sein op onveilig”, en welke zijn er mee in strijd? Als ik de brug open vind en het sein op „onveilig” (hokje links boven), wordt de uitspraak bevestigd;

evenzo als ik de brug dicht vind en het sein op „veilig” (hokje rechts onderaan). En dit geldt ook nog, als de brug dicht is en het sein op „onveilig” (hokje rechts boven), want de uitspraak zegt in 't geheel niets over wat zich voordoet, indien de brug dicht is; het sein mag dan op „veilig” of „onveilig” staan. Maar als ik eens een keer de brug open en desondanks het sein op „veilig” vind (hokje links onderaan), is de uitspraak weerlegd.

Ik constateer dus: Een propositie „als  $p$  dan  $q$ ” is alleen onwaar, als  $p$  waar en desondanks  $q$  onwaar is; in alle andere gevallen is zij waar — dus zij is waar, zowel indien  $p$  onwaar is en  $q$  willekeurig, als ook indien  $q$  waar is en  $p$  willekeurig.

We schrijven in het vervolg:

- $p \wedge q$  in plaats van „ $p$  en  $q$ ”,
- $p \vee q$  „ .. .. „ $p$  of  $q$ ”,
- $p \rightarrow q$  „ .. .. „als  $p$ , dan  $q$ ”,
- $p \leftrightarrow q$  „ .. .. „ $p$  dan en slechts dan, als  $q$ ”.

Het teken  $\vee$  is ontstaan uit de  $v$  van Latijns *vel* (= of); de  $\wedge$  is de  $v$  op zijn kop. De tekens  $\rightarrow$  en  $\leftrightarrow$  spreken voor zichzelf.

Voor de diverse verbindingen heeft men ook de namen:

- $p \wedge q$  conjunctie (van  $p$  en  $q$ ),
- $p \vee q$  disjunctie (van  $p$  en  $q$ ),
- $p \rightarrow q$  implicatie (van  $p$  naar  $q$ ),
- $p \leftrightarrow q$  wederzijdse implicatie.



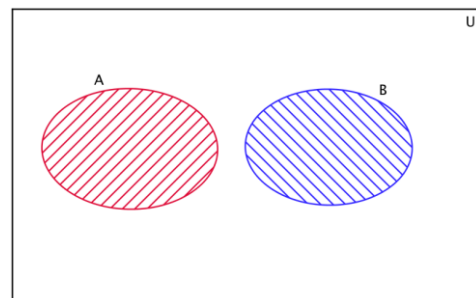
## § 7 Venndiagrammen

Bij het logisch redeneren maken we dikwijls gebruik van zogeheten Venndiagrammen. Venndiagrammen zijn grafische voorstellingen van de logische relaties tussen meerdere verzamelingen. Ze zijn genoemd naar de Engelse wiskundige en filosoof John Venn, die ze omstreeks 1880 bedacht.

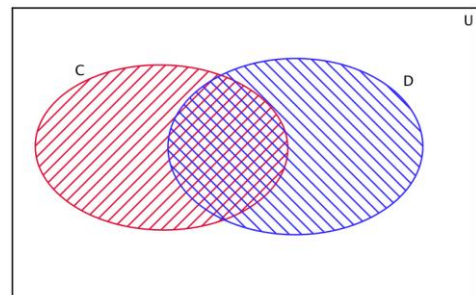
Een Venndiagram bestaat uit een (vaak rechthoekig) kader, meestal het universum genoemd, waarbinnen zich een of meer cirkels en/of ellipsen bevinden.

Een voorbeeld van een dergelijk Venndiagram zie je hiernaast.

Het rechthoekig kader stelt in dit geval alle mensen voor. Het roodkleurige gebied A stelt alle mensen voor die roodharig zijn en het blauwkleurige gebied B alle blonde mensen. Zoals je ziet is er geen overlap tussen beide gebieden. Dat kan ook niet als we bedenken dat er geen mensen zijn die zowel roodharig als blond zijn. Daarnaast is het zo dat beide gebieden niet het hele universum in beslag nemen, want bestaan er bijvoorbeeld ook nog donkerharige mensen.



Als we echter een Venndiagram tekenen van alle dieren, waarbij we kijken naar de lengte van de staart en het soort vacht, dan krijgen een diagram dat er iets anders uitziet, namelijk zoals hiernaast afgebeeld staat. Het rode gebied C staat voor dieren met een staart, het blauwe gebied D voor dieren met een langharige vacht. Omdat er dieren zijn die zowel tot C als tot D behoren (denk bijvoorbeeld aan een Siamese kat) moeten de gebieden elkaar nu overlappen.

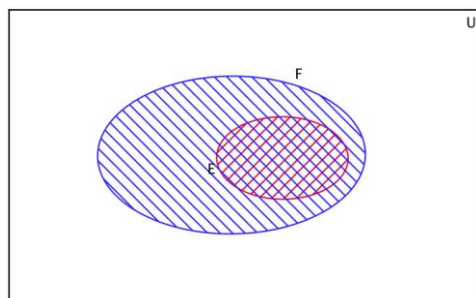


### Opgave 70

Teken een Venndiagram van alle mensen, waarbij gebied A alle Europeanen voorstelt en gebied B alle mensen waarvan Spaans de moedertaal is.

Geef in het Venndiagram ook aan waar de volgende mensen getekend moeten worden: iemand uit Barcelona, iemand uit Londen, iemand uit Mexico en iemand uit Tibet.

Er kunnen zich ook nog andere situaties voordoen. Als we bijvoorbeeld voor gebied E alle mensen nemen die in Amsterdam wonen en voor gebied F alle mensen die in Nederland wonen, dan komt het Venndiagram er als volgt uit te zien zoals hiernaast. Gebied E valt helemaal binnen gebied F, want als je in Amsterdam woont dan woon je automatisch ook in Nederland.



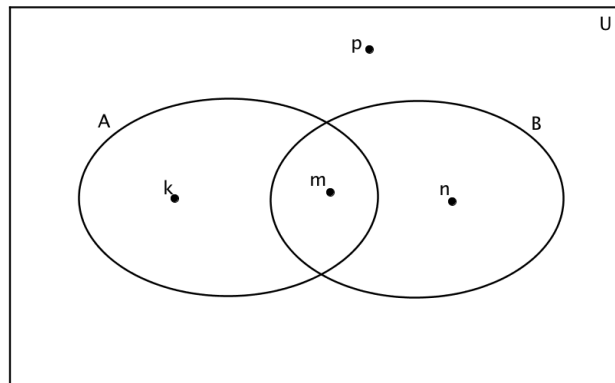


Hierboven is weer een Venndiagram getekend met daarin twee gebieden A en B en vier punten k, m, n en p.

We beschouwen A en B nu echter als proposities (beweringen). Bijvoorbeeld A is een dier met een staart en B is een dier met een langharige vacht.

Omdat k binnen gebied A zit, kunnen we zeggen dat bewering A waar is voor k.

Oftewel voor k geldt A.



We zouden ook kunnen zeggen dat B niet waar is voor k, ofwel voor k geldt  $\neg B$ .

Voor m geldt dan  $A \wedge B$ .

### Opgave 71

Teken een Venndiagram met de gebieden A en B die elkaar gedeeltelijk overlappen.

Arceer in dat Venndiagram het hele gebied van alle punten waarvoor geldt:  $A \vee B$ .

### Opgave 72

Doe hetzelfde voor alle punten waarvoor geldt:  $\neg(A \vee B)$ .

### Opgave 73

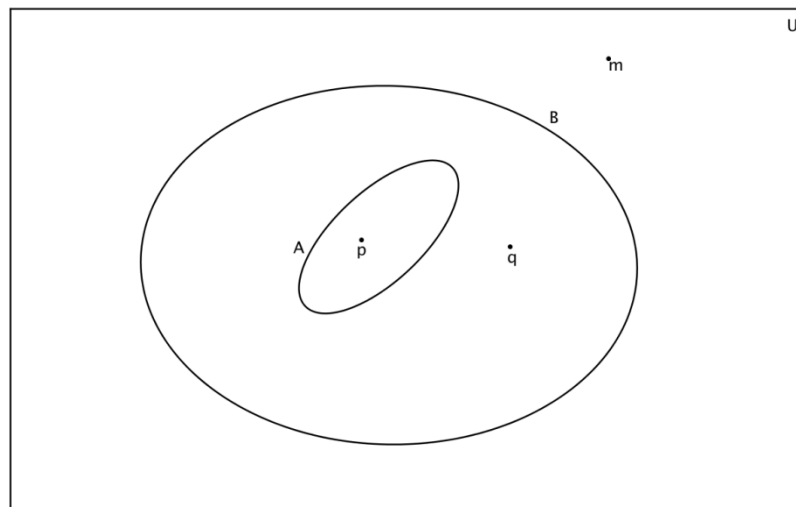
Idem voor  $\neg(A \wedge B)$ .



Proposities als  $A \Rightarrow B$  kun je ook weergeven met behulp van een Venndiagram als je bedenkt dat als je tot gebied A behoort je automatisch ook tot gebied B behoort.

Het Venndiagram dat je dan krijgt is vergelijkbaar met het diagram van de inwoners van Amsterdam en de inwoners van Nederland na opgave 70.

Met een Venndiagram kunnen we de modus tollens en de modus nonsens ook heel duidelijk weergeven en aantonen. Als we weer uitgaan van de modus ponens  $A \Rightarrow B$  en we tekenen het daarbij behorende Venndiagram, dan krijgen we het volgende:



$A \Rightarrow B$  kunnen we als volgt interpreteren: als een punt tot A behoort dan behoort het ook tot B.

Een voorbeeld van zo'n punt is p.

De bijbehorende modus tollens is  $\neg B \Rightarrow \neg A$ . Dit kunnen we vertalen naar: als een punt niet tot B behoort dan behoort het ook niet tot A. Dat dit klopt kunnen we zien als we kijken naar punt m.

De modus nonsens zegt dat  $\neg A \Rightarrow \neg B$ . Dat dit niet klopt kunnen we zien als we kijken naar de punten q en m. Punt p behoort niet tot A en wel tot B, terwijl punt m niet tot A behoort en ook niet tot B.

We kunnen dus niet zeggen: als  $\neg A$  waar is dan is ook  $\neg B$  waar.

#### Opgave 74

Controleer met behulp van een Venndiagram de volgende vier redeneringen:

- |  |   |
|--|---|
| <ul style="list-style-type: none"> <li>• Alle mensen zijn sterfelijk.</li> <li>• Socrates is een mens.</li> <li>• Dus: Socrates is sterfelijk.</li> </ul>  | <ul style="list-style-type: none"> <li>• Alle Canadezen zijn rechtshandig.</li> <li>• Alle rechtshandigen zijn opticien.</li> <li>• Dus: alle Canadezen zijn opticien.</li> </ul> |
| <ul style="list-style-type: none"> <li>• Alle auto's die na 1994 zijn gebouwd hebben een katalysator.</li> <li>• Mijn auto heeft een katalysator.</li> <li>• Dus: mijn auto is gemaakt na 1994.</li> </ul> | <ul style="list-style-type: none"> <li>• Alle Noren zijn linkshandig.</li> <li>• Sommige linkshandigen zijn slim.</li> <li>• Dus: alle Noren zijn slim.</li> </ul>                |

**Opgave 75**

Welke conclusies kun je met zekerheid trekken bij de twee gegeven zinnen?

1. Geen van de Eskimo's is een drinker.
2. Alle dichters (poëten) zijn drinkers.

Mogelijke conclusies:

- a. Alle dichters zijn Eskimo's.
- b. Sommige Eskimo's zijn geen drinkers.
- c. Sommige dichters zijn Eskimo's.
- d. Sommige niet-drinkers zijn dichters.
- e. Geen stelling is zeker.

**Opgave 76**

Welke conclusies kun je met zekerheid trekken bij de twee gegeven zinnen?

1. Alle voetballers zijn gezellige mensen.
2. Sommige voetballers zijn lang.

Mogelijke conclusies:

- a. Geen van de gezellige mensen is lang.
- b. Alle gezellige mensen zijn klein.
- c. Sommige gezellige mensen zijn lang.
- d. Geen voetballer is lang.
- e. Geen stelling is zeker.

**Opmerking**

Hoewel formeel niet helemaal juist, wordt het rechthoekige kader bij het Venndiagram vaak weggelaten.



Een mooi voorbeeld van het gebruik van Venndiagrammen zie je in het stukje hiernaast. Het stond in 2010 in **NRC HANDELSBLAD**.

In deze opgave bekijken we de discussie tussen de meisjes.

Daarvoor modelleren we deze discussie:

Er zijn twee vriendinnen, vriendin 1 en vriendin 2, die de schrijfster van het artikel tegenkomen.

**Citaat 1**

Vriendin 1 vraagt aan de schrijfster:

*“Ben jij een moeder?”*

**Citaat 2**

Vriendin 2 zegt: *“Ze is een moeder omdat ze geen bochtjes kan.”*

**Citaat 3**

Vriendin 1 zegt: *“Dat kun je pas zeggen als je alle moeders kent en wanneer alle moeders geen bochtjes kunnen.”*

**Citaat 4**

Vriendin 1 zegt bovendien: *“Dat kun je niet zeggen, want wij zijn meisjes en kunnen ook geen bochtjes.”*

ik@nrc.nl

## Schaatskunst

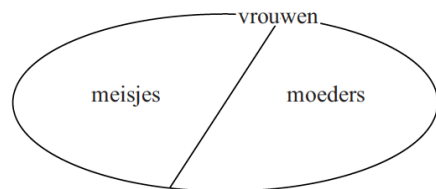
Het schaatsseizoen is weer begonnen.

Rechtuit gaat wel, bochtjes oefen ik ieder jaar alsof het voor het eerst is. Ik help een meisje met haar veters. Als we elkaar weer tegenkomen vraagt ze of ik een meisje ben of moeder. Haar vriendinnetje onderbreekt haar: “Ze is een moeder. Ze kan wel schaatsen, maar geen bochtjes, net als mijn moeder.” Het is even stil. Dan zegt de ander: “Dat kan je pas zeggen wanneer je alle moeders kent en wanneer alle moeders wel kunnen schaatsen, maar geen bochtjes. En trouwens wij zijn meisjes en kunnen ook geen bochtjes”.

Vriendinnetje zucht: “Jij maakt ook altijd alles ingewikkeld!”

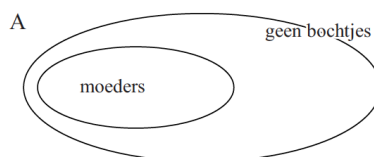
**MARGREET VAN SCHIE**

Uit het stukje volgt dat er op de schaatsbaan blijkbaar maar twee verschillende soorten vrouwen zijn: moeders en meisjes. Dat zie je hiernaast in een Venndiagram weergegeven. We gaan er steeds van uit dat iedere vrouw kan schaatsen.



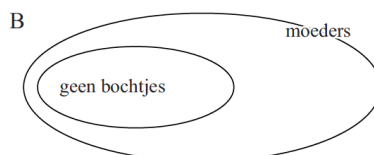
**Opgave 77**

Geef de redenering van citaat 2 in de ‘als-dan-vorm’.

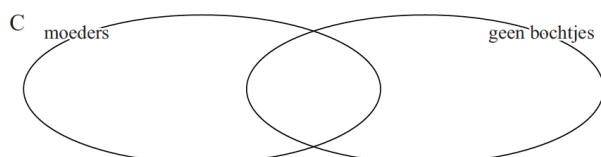


**Opgave 78**

Hiernaast staan drie verschillende Venndiagrammen: A, B en C. Eén daarvan past bij citaat 2.



Welk Venndiagram is dat? Licht je antwoord toe.



**Opgave 79**

In citaat 4 gaat vriendin 1 tegen de uitspraak van citaat 2 in.

Toon aan dat dit argument van citaat 4 voldoende is om de uitspraak van vriendin 2 in citaat 2 te weerleggen.

**Opgave 80**

We kijken nu naar citaat 3 van vriendin 1.

Stel dat de volgende bewering geldt: *Alle moeders kunnen geen bochtjes.*

Formuleer deze bewering weer in een 'als-dan-vorm' en onderzoek of deze bewering de uitspraak van citaat 2 bevestigt.

